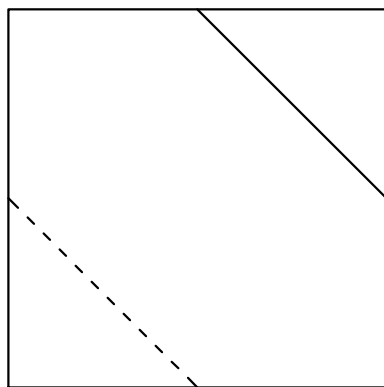


Dibujo Técnico II - 2º Bachillerato
Unidad 5: Perspectivas.
Melancolía

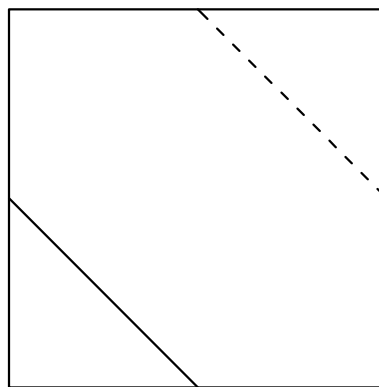
DATOS DE LOS EJERCICIOS 1 Y 2

Para realizar los dos ejercicios necesitas el alzado, la planta y el perfil del poliedro de Durero, que te facilitamos bajo estas líneas a escala 1:1. Es decir, puedes obtener todas las medidas que necesites midiendo directamente sobre las vistas de la figura. Para que te ayude en la visualización de la pieza y en la resolución de los ejercicios, te incluimos la perspectiva caballera del poliedro.

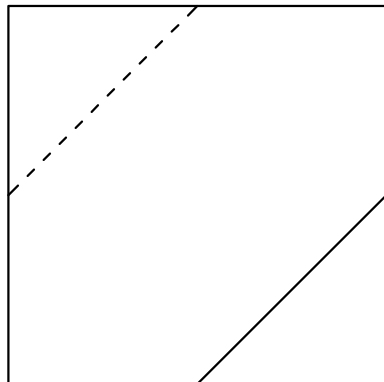


X

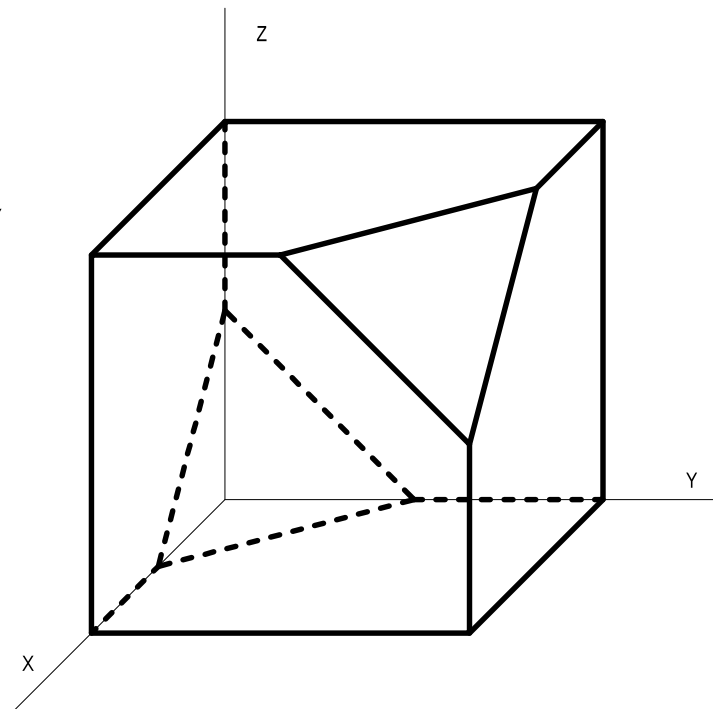
Z



Y



Y



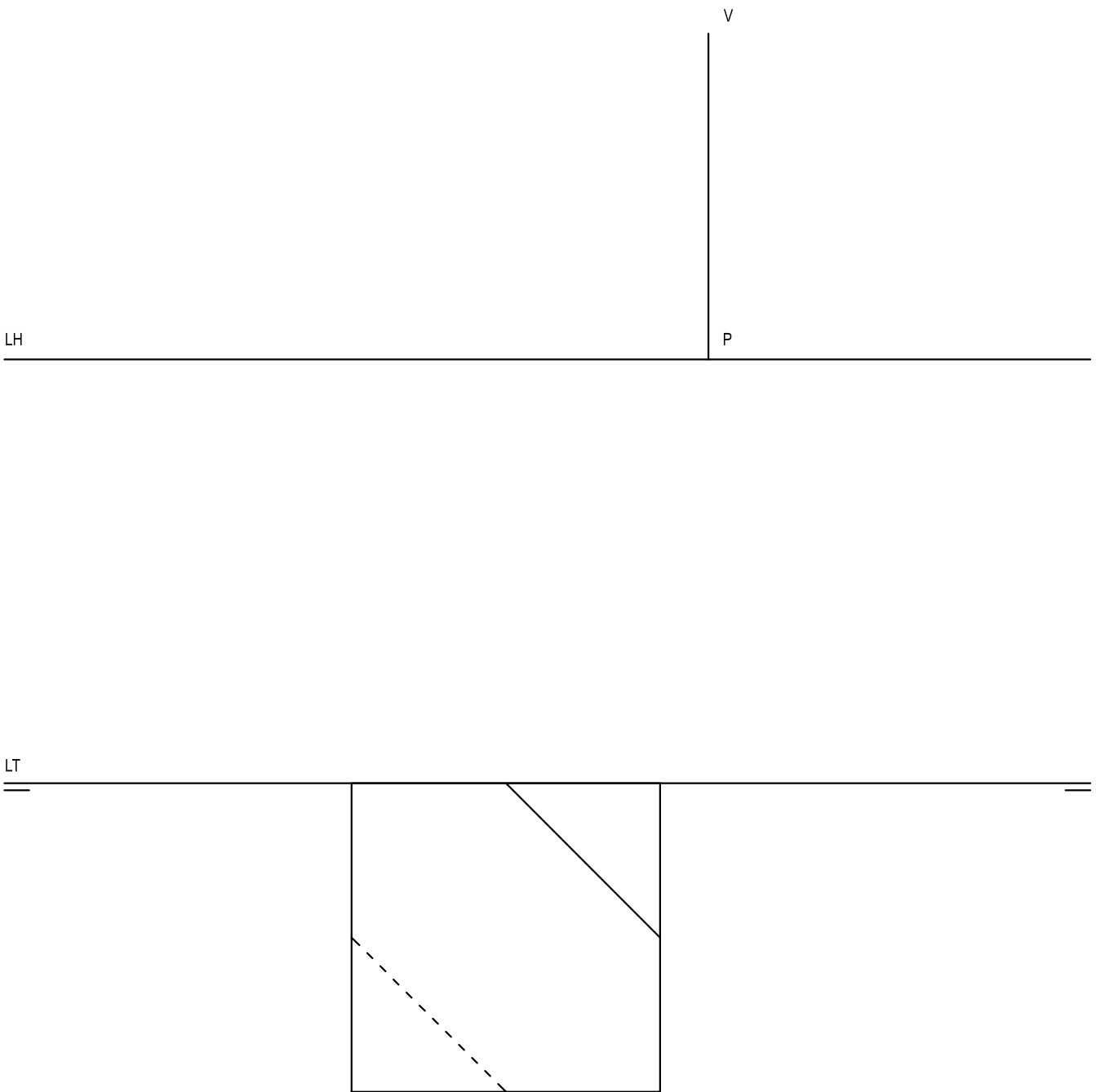
Dibujo Técnico II - 2º Bachillerato
Unidad 5: Perspectivas.
Melancolía

Nombre del alumno/a:

EJERCICIO 1

Definido el sistema cónico por la línea de tierra, la línea del horizonte, el punto principal (P) y el abatimiento sobre el plano del cuadro del punto de vista (V), se pide:

Dibujar la **perspectiva cónica frontal** del poliedro de Durero dado por sus vistas a escala 1:1, sabiendo que dicha figura está apoyada en el plano geometral, en la posición indicada por el abatimiento de su planta sobre el plano del cuadro.



Dibujo Técnico II - 2º Bachillerato
Unidad 5: Perspectivas.
Melancolía

Nombre del alumno/a:

EJERCICIO 2

Definido el sistema cónico por la línea de tierra, la línea del horizonte, el punto principal (P) y el abatimiento sobre el plano del cuadro del punto de vista (V), se pide:

Dibujar la **perspectiva cónica oblicua** del poliedro de Durero dado por sus vistas a escala 1:1, sabiendo que dicha figura está apoyada en el plano geometral, en la posición indicada por el abatimiento de su planta sobre el plano del cuadro.

