

<p>Ámbito Social Nivel I</p> <p>Bloque V: La Edad Media. Cuestionario</p>
<p>Nombre del alumno/a:</p>

**NOTA:** Conviene que imprimas este documento para poder ir localizando las respuestas en los contenidos a la vez que lo tienes abierto para ir escribiendo las respuestas.



**EVALUACIÓN:**

- Cuestionario 1: hasta **24 puntos**.
- Cuestionario 2: hasta **24 puntos**.
- Cuestionario 3: hasta **24 puntos**.
- Cuestionario 4: hasta **28 puntos**.



**RECUERDA:**

1. Recuerda lo explicado en el tema 1: La Alta Edad Media.
2. Recuerda lo explicado en el tema 2: La Plena Edad Media.
3. Recuerda lo explicado en el tema 3: La Baja Edad Media.
4. Recuerda lo explicado en el tema 4: Musulmanes y cristianos en la Edad Media.



### Cuestionario 1: Tema 1 (hasta 24 puntos)

1. Elije entre verdadero y falso:

¿Cuál de estas afirmaciones de los reinos es correcta?

- ☐ El reino de Asturias se convirtió en el reino de León El reino de Navarra se convirtió en el reino de Aragón
- ☐ El reino de Barcelona se convirtió en el reino de León

2. Elije la opción correcta:

¿Cuál de estas afirmaciones son verdaderas?

- ☐ El Islam es una de las tres civilizaciones surgidas tras la caída del Imperio romano
- ☐ El reino visigodo se situó en la actual España
- ☐ Los reinos germánicos vivían en el norte de África

3. Elije la opción correcta:

¿En qué año se descubrió América?

- ☐ América se descubrió en 1492
- ☐ América se descubrió en 1945
- ☐ América nunca se descubrió

4. Elije la opción correcta:

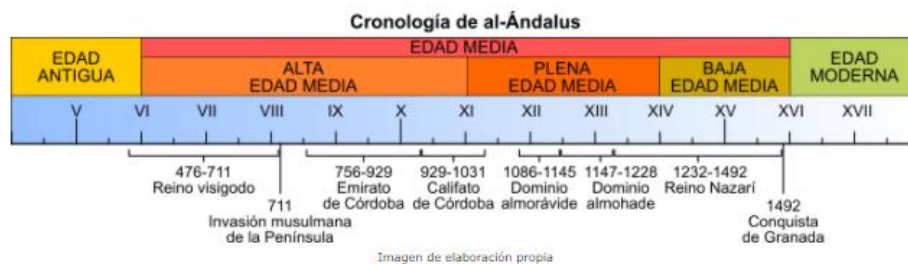
¿Cuál de estas preguntas es correcta?

- ☐ Justiniano fue un emperador del Imperio bizantino
- ☐ La capital de Bizancio era Madrid
- ☐ Justiniano vivía en Roma

5. Elige la opción correcta:

- ¿En cuántas etapas se divide la Edad Media?
- La Edad Media se divide en dos etapas: una es la Etapa Antigua y otra la Etapa Nueva.
- La Edad Media se divide en tres etapas: una es la Alta Edad Media, otra la Plena Edad Media y la tercera la Baja Edad Media.
- Ninguna de las dos respuestas es correcta.

6. Observa el eje cronológico y elige la respuesta correcta:



- El reino Nazarí se desarrolló entre los siglos XIV y XV
- El califato de Córdoba se desarrolló en el siglo XVI
- Ninguna respuesta es correcta



## Cuestionario 2: Tema 2 (hasta 24 puntos)

1. Indica si la siguiente afirmación es verdadera o falsa:

- ☐ La Plena Edad Media se da entre los siglos XI y XIII

2. Señala alguno de los principales rasgos de la Plena Edad Media:


- ☐ Hay un auge de las **peregrinaciones religiosas**, como el Camino de Santiago, que fomentan la circulación de personas, mercancías e ideas.
- ☐ La **cultura** se desarrolla gracias a la reforma de los **monasterios** y a la aparición de las **universidades**.
- ☐ Todas las respuestas anteriores son verdaderas

3. Indica si la siguiente afirmación es verdadera o falsa:

- ☐ **Europa** estaba **muy poco poblada** y la **población crecía muy lentamente**.

4. Señala alguno de los principales rasgos de la sociedad en la Plena Edad Media:

- ☐ La sociedad medieval era una **sociedad estamental**, es decir, dividida en **estamentos**.
- ☐ Los dos **estamentos privilegiados** eran la **nobleza**, cuya función era la guerra, y el **clero**, cuya función era salvar las almas. Dentro de cada grupo había grandes diferencias sociales: alta nobleza, baja nobleza, alto clero, bajo clero.
- ☐ El **estamento no privilegiado** era el **Tercer Estado**, cuya función era el trabajo.
- ☐ Todas las respuestas son verdaderas.



5. Indica si la siguiente afirmación es verdadera o falsa:

- ☐ Aunque la sociedad medieval era muy machista, el papel social de la mujer no fue pasivo ni secundario. Tenía un papel económico tan importante y variado como el de los hombres. Muchas mujeres trataron de romper los límites sociales del matrimonio o el convento y alcanzaron un gran protagonismo en la vida política y cultural.

6. ¿Qué es la repoblación? Elije la respuesta correcta:

- ☐ La ocupación de antiguos territorios musulmanes con pobladores cristianos.
- ☐ La ocupación de antiguos territorios cristianos con pobladores musulmanes.



### Cuestionario 3: Tema 3 (hasta 24 puntos)

1. ¿En qué siglos se desarrolla la Baja Edad Media?

Seleccione una:

- ☐ a. Entre los siglos XV y XVI
- ☐ b. Entre los siglos XIV y XV
- ☐ c. Entre los siglos XVI y XVII

2. Elije la respuesta correcta:

Seleccione una:

- ☐ a. Una de las causas de la crisis del siglo XIV fueron las luchas de poder en las ciudades
- ☐ b. Una de las causas de la crisis del siglo XIV fueron las malas cosechas
- ☐ c. Una de las causas de la crisis del siglo XIV fueron las guerras civiles e internacionales
- ☐ d. Todas las respuestas son correctas
- ☐ e. Una de las causas de la crisis del siglo XIV fueron las tensiones feudales

3. La peste negra se extendió por Asia y Europa muy rápidamente y acabó con al menos un tercio de la población

Seleccione una:

- ☐ Verdadero
- ☐ Falso

4. ¿Qué familia se hizo consiguió gobernar las Coronas de Castilla y Aragón?

Seleccione una:

- ☐ a. Los Trastámara
- ☐ b. Los Medici
- ☐ c. Los Montecristo

5. Empareja cada reino con sus características:

La Corona de Castilla Respuesta 1

La Corona de Aragón Respuesta 2

El Reino de Navarra Respuesta 3

6. Observa la imagen y escoge la respuesta correcta:



Seleccione una:

- ☐ a. Alhambra de Granada
- ☐ b. Giralda de Sevilla
- ☐ c. Mezquita de Córdoba
- ☐ d. Alcazaba de Almería



#### Cuestionario 4: Tema 4 (hasta 28 puntos)

1. Indica si la siguiente afirmación es verdadera o falsa:

☐ -Las características más importantes de la arquitectura románica son:

- Uso de piedra como material de construcción.
- Uso de bóvedas de cañón y de arcos de medio punto.
- Muros muy anchos para soportar el peso de las bóvedas de piedra.
- Uso de contrafuertes. Iglesias de planta de cruz latina.
- Fachadas del exterior decoradas con esculturas de escenas bíblicas


2. Indica si la siguiente afirmación es verdadera o falsa:

☐ Las características más importantes de la arquitectura gótica son:

- Bóvedas más ligeras.
- Uso de sistemas de sujeción más complejos: arbotantes y pináculos.
- Los muros se hacen más ligeros por el uso de vidrieras y rosetones.
- Los edificios ganan en altura y longitud.
- La decoración pictórica y escultórica disminuye en cantidad.
- Estos cambios se producen sobre todo gracias a las mejoras en las técnicas de construcción.
- La escultura y la pintura también cambian con respecto al románico ya que se hacen más bellas.

3. Identifica cada edificio señalando si es gótico o románico:





4. Indica si la siguiente afirmación es verdadera o falsa:

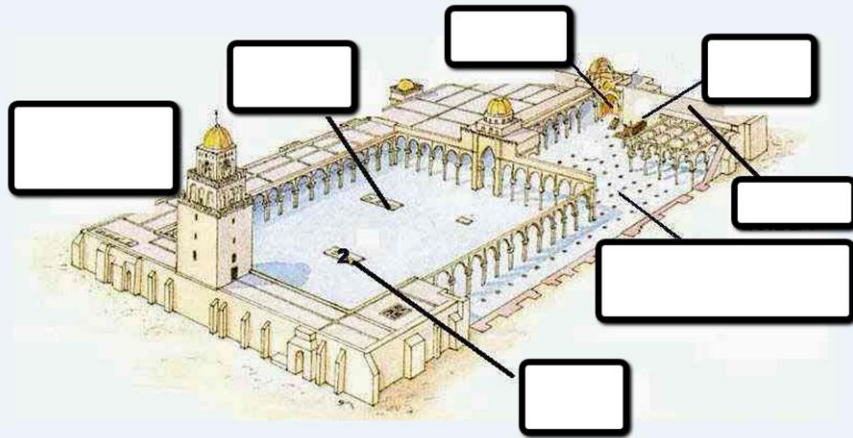
- ☐ Lo que más caracteriza al arte hispanomusulmán es su esplendor decorativo

5. Identifica los elementos decorativos más utilizados por los artistas musulmanes:

(Ataurique, lacería, cúfica)



6. Identifica cada una de las partes de una mezquita musulmana.



***Minarete, patio (sahn), fuente de abluciones, harán, quibla, minbar, mihrab***

7. ¿Podrías definir qué es el arte mudéjar?

