

CON GEOMETRÍA Y ARTESANÍA MONTAMOS NUESTRA ALFARERÍA

Mundo poligonal. Dando vueltas.

Entre aros y lunares.

Opción A: ¿Cuál es cuál?



Nombre

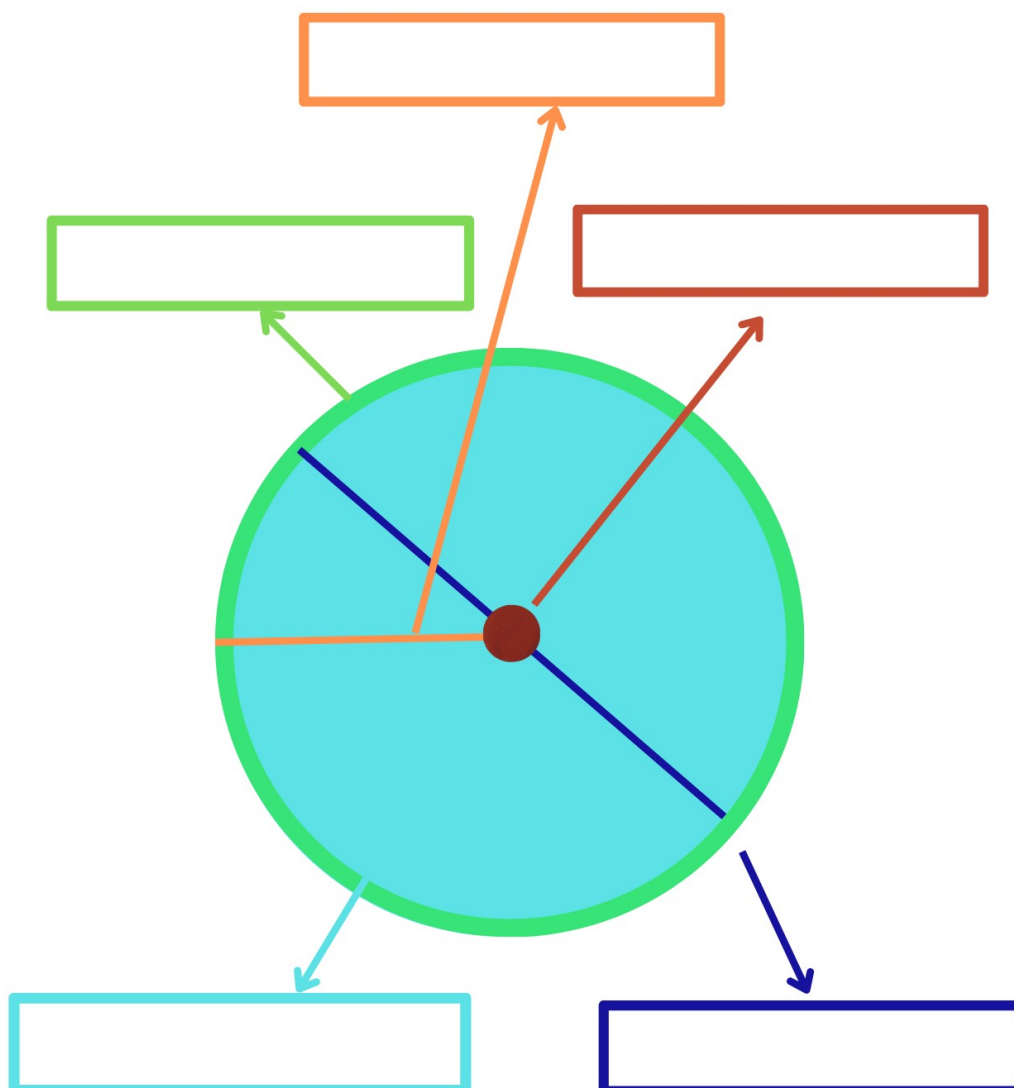
1 Entre aros y lunares.

1.1 Opción A: ¿Cuál es cuál?



Escribe en cada etiqueta el nombre de los elementos del círculo y la circunferencia.

Círculo - Circunferencia - Centro - Diámetro - Radio




1.2. Plantilla de ayuda.




Recuerda.

LA CIRCUNFERENCIA Y EL CÍRCULO

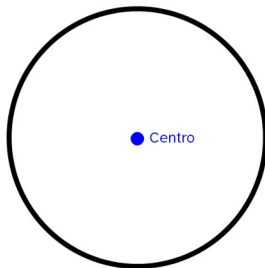


Circunferencia

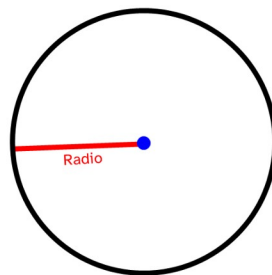


Círculo

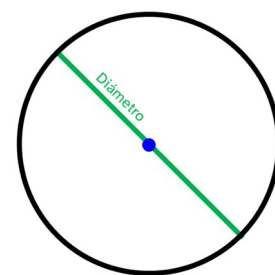
ELEMENTOS DE LA CIRCUNFERENCIA Y EL CÍRCULO



Centro



Radio



Diámetro

R E A
ANDALUCÍA
RECURSOS EDUCATIVOS ABIERTOS

Andalucía
se mueve con Europa



UNIÓN EUROPEA
Fondos Europeo de Desarrollo Regional



**Junta
de Andalucía**

Consejería de Educación
y Deporte