

## CUADERNO DE DISFRACES



# ÍNDICE

---

1. Escucha y anota.....	Página 03
2. ¡Adelante!.....	Página 04
3. Suma con la tabla del 100.....	Página 05
4. Ahora tendrás que restar.....	Página 06
5. Coloca los números.....	Página 07
6. Ahora...al contrario.....	Página 08
7. Suma de mayores.....	Página 09
8. Resta de mayores.....	Página 10
9. Sumamos y restamos sin llevadas.....	Página 11
10. Sumas y restas con llevadas.....	Página 12
11. Practica.....	Página 13
12. ¿Dónde hay más?.....	Página 14
13. ¿Ayudamos a Retor?.....	Página 15
14. Analiza.....	Página 16
15. Calculamos.....	Página 17
16. ¿Cómo lo hemos hecho?.....	Página 18
17. Créditos .....	Página 19

## Cuaderno de disfraces

---

Este será tu cuaderno de disfraces que te acompañará en todo este REA. ¡Ánimo, somos superhéroes y superheroínas!



### 1. Escucha y anota

---

Anota los números que escuches en las casillas correspondientes.




## 2. ¡Adelante!

Investigad cómo son los disfraces y anotad las respuestas a estas preguntas (escribe SI o NO y la cantidad):

	SI /NO	CANTIDAD
1.¿Tiene casco el disfraz?		
2.¿Lleva antifaz o careta?		
3.¿Tiene capa?		
4.¿Tiene escudo?		
5.¿Lleva brazalete?		
6.¿Tiene cubre-zapatos?		
7.¿Hay disfraces de Spiderman ?		
8.¿Hay varitas mágicas?		
9.¿Hay sombreros?		
10.¿Tienen barbas?		



### 3. Suma con la tabla del 100

Ayúdate de esta tabla y realiza las siguientes operaciones de sumas.

1	2	3	4	5	6	7	8	9	10
11	12	13	14	15	16	17	18	19	20
21	22	23	24	25	26	27	28	29	30
31	32	33	34	35	36	37	38	39	40
41	42	43	44	45	46	47	48	49	50
51	52	53	54	55	56	57	58	59	60
61	62	63	64	65	66	67	68	69	70
71	72	73	74	75	76	77	78	79	80
81	82	83	84	85	86	87	88	89	90
91	92	93	94	95	96	97	98	99	100

Sitúate en el espacio que ocupa el primer número de la operación que vayas a realizar, a partir del siguiente número ve avanzando tantas casillas como te indica el segundo sumando y tendrás el resultado.

$10 + 5 =$

$20 + 2 =$

$32 + 3 =$

$43 + 6 =$

$54 + 5 =$

$68 + 2 =$

$73 + 6 =$

$83 + 3 =$

#### 4. Ahora tendrás que restar...

Aquí tienes otra vez la tabla del 100.

1	2	3	4	5	6	7	8	9	10
11	12	13	14	15	16	17	18	19	20
21	22	23	24	25	26	27	28	29	30
31	32	33	34	35	36	37	38	39	40
41	42	43	44	45	46	47	48	49	50
51	52	53	54	55	56	57	58	59	60
61	62	63	64	65	66	67	68	69	70
71	72	73	74	75	76	77	78	79	80
81	82	83	84	85	86	87	88	89	90
91	92	93	94	95	96	97	98	99	100

Para hacer las siguientes operaciones, ahora debes ir para atrás. Sitúa tu dedo en el número que te indica y retrocede tantas casillas como te indique el restando. ¡Así lograrás saber el resultado!

$15-5 =$

$56-5 =$

$23-2 =$

$68-6 =$

$34-3 =$

$77-7 =$

$45-5 =$

$89-6 =$

## 5. Coloca los números

Coloca los números de forma correcta en la siguiente tabla:

NÚMERO	CENTENAS(C)	DECENAS(D)	UNIDADES(U)
123			
254			
365			
452			
568			
780			

## 6. Ahora, al contrario...

---

Escribe el número correspondiente.

NÚMERO	CENTENAS(C)	DECENAS(D)	UNIDADES(U)
	8	6	5
	6	6	6
	0	9	0
	1	2	3
	5	0	7
	3	0	0



## 7. Suma de mayores

Realiza las siguientes sumas. No olvides colocar bien los números.

$44 + 23 =$	$28 + 31 =$	$57 + 42 =$																																				
<table border="1"><tr><td></td><td>D</td><td>U</td></tr><tr><td></td><td></td><td></td></tr><tr><td>+</td><td></td><td></td></tr><tr><td></td><td></td><td></td></tr></table>		D	U				+						<table border="1"><tr><td></td><td>D</td><td>U</td></tr><tr><td></td><td></td><td></td></tr><tr><td>+</td><td></td><td></td></tr><tr><td></td><td></td><td></td></tr></table>		D	U				+						<table border="1"><tr><td></td><td>D</td><td>U</td></tr><tr><td></td><td></td><td></td></tr><tr><td>+</td><td></td><td></td></tr><tr><td></td><td></td><td></td></tr></table>		D	U				+					
	D	U																																				
+																																						
	D	U																																				
+																																						
	D	U																																				
+																																						
$36 + 20 =$	$61 + 14 =$	$70 + 18 =$																																				
<table border="1"><tr><td></td><td>D</td><td>U</td></tr><tr><td></td><td></td><td></td></tr><tr><td>+</td><td></td><td></td></tr><tr><td></td><td></td><td></td></tr></table>		D	U				+						<table border="1"><tr><td></td><td>D</td><td>U</td></tr><tr><td></td><td></td><td></td></tr><tr><td>+</td><td></td><td></td></tr><tr><td></td><td></td><td></td></tr></table>		D	U				+						<table border="1"><tr><td></td><td>D</td><td>U</td></tr><tr><td></td><td></td><td></td></tr><tr><td>+</td><td></td><td></td></tr><tr><td></td><td></td><td></td></tr></table>		D	U				+					
	D	U																																				
+																																						
	D	U																																				
+																																						
	D	U																																				
+																																						



## 8. Resta de mayores

Realiza las siguientes restas. No olvides colocar bien los números.

$58-42 =$	$35-23 =$	$62-30 =$																																				
<table border="1"><tr><td></td><td>D</td><td>U</td></tr><tr><td></td><td></td><td></td></tr><tr><td>+</td><td></td><td></td></tr><tr><td></td><td></td><td></td></tr></table>		D	U				+						<table border="1"><tr><td></td><td>D</td><td>U</td></tr><tr><td></td><td></td><td></td></tr><tr><td>+</td><td></td><td></td></tr><tr><td></td><td></td><td></td></tr></table>		D	U				+						<table border="1"><tr><td></td><td>D</td><td>U</td></tr><tr><td></td><td></td><td></td></tr><tr><td>+</td><td></td><td></td></tr><tr><td></td><td></td><td></td></tr></table>		D	U				+					
	D	U																																				
+																																						
	D	U																																				
+																																						
	D	U																																				
+																																						
$70-20 =$	$84-22 =$	$68-58 =$																																				
<table border="1"><tr><td></td><td>D</td><td>U</td></tr><tr><td></td><td></td><td></td></tr><tr><td>+</td><td></td><td></td></tr><tr><td></td><td></td><td></td></tr></table>		D	U				+						<table border="1"><tr><td></td><td>D</td><td>U</td></tr><tr><td></td><td></td><td></td></tr><tr><td>+</td><td></td><td></td></tr><tr><td></td><td></td><td></td></tr></table>		D	U				+						<table border="1"><tr><td></td><td>D</td><td>U</td></tr><tr><td></td><td></td><td></td></tr><tr><td>+</td><td></td><td></td></tr><tr><td></td><td></td><td></td></tr></table>		D	U				+					
	D	U																																				
+																																						
	D	U																																				
+																																						
	D	U																																				
+																																						



## 9. Sumamos y restamos sin llevada

Realiza las siguientes operaciones.

$$\begin{array}{r} 33 \\ + 25 \\ \hline \end{array}$$

$$\begin{array}{r} 48 \\ - 12 \\ \hline \end{array}$$

$$\begin{array}{r} 83 \\ + 15 \\ \hline \end{array}$$

$$\begin{array}{r} 21 \\ - 11 \\ \hline \end{array}$$

$$\begin{array}{r} 66 \\ + 32 \\ \hline \end{array}$$

$$\begin{array}{r} 99 \\ - 75 \\ \hline \end{array}$$

$$\begin{array}{r} 53 \\ + 36 \\ \hline \end{array}$$

$$\begin{array}{r} 95 \\ - 35 \\ \hline \end{array}$$

$$\begin{array}{r} 43 \\ + 11 \\ \hline \end{array}$$

## 10. Sumas y restas con llevadas

Realiza las siguientes sumas y restas. Pon atención ahora a las llevadas.

$$\begin{array}{r} 38 \\ + 25 \\ \hline \end{array}$$

$$\begin{array}{r} 48 \\ - 19 \\ \hline \end{array}$$

$$\begin{array}{r} 83 \\ + 58 \\ \hline \end{array}$$

$$\begin{array}{r} 21 \\ - 19 \\ \hline \end{array}$$

$$\begin{array}{r} 68 \\ + 35 \\ \hline \end{array}$$

$$\begin{array}{r} 91 \\ - 75 \\ \hline \end{array}$$

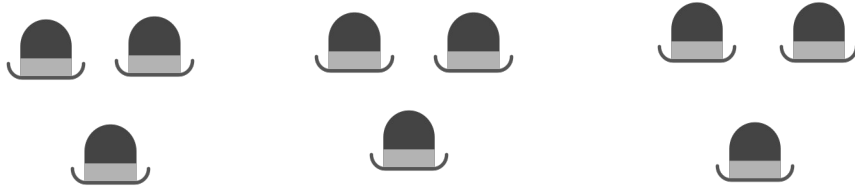
$$\begin{array}{r} 56 \\ + 37 \\ \hline \end{array}$$

$$\begin{array}{r} 95 \\ - 38 \\ \hline \end{array}$$

$$\begin{array}{r} 46 \\ + 18 \\ \hline \end{array}$$

## 11. Practica

Realiza las siguientes sumas repetidas, y luego realiza la multiplicación.



	+		+		=	
	$\times$		=			












	+		=	
	$\times$		=	



	+		=	
	$\times$		=	


## 12. ¿Dónde hay más?

En cada caso, cuenta y rodea el conjunto que tiene más disfraces.

 A collection of 15 black mustache icons arranged in a grid-like pattern.	 A collection of 10 black mustache icons and 1 black witch hat icon with a purple square on its side.	 A collection of 15 black mustache icons arranged in a grid-like pattern.
 A collection of 15 black witch hat icons with purple squares on their sides, arranged in a grid-like pattern.	 A collection of 15 black witch hat icons with purple squares on their sides, arranged in a grid-like pattern.	 A collection of 15 black witch hat icons with purple squares on their sides, arranged in a grid-like pattern.
 A collection of 15 black-rimmed glasses icons with orange faces, arranged in a grid-like pattern.	 A collection of 10 black-rimmed glasses icons with orange faces, arranged in a grid-like pattern.	 A collection of 15 black-rimmed glasses icons with orange faces, arranged in a grid-like pattern.




### 13. ¿Ayudamos a Retor?

Retor necesita ayuda, ahora quieren disfrazarse todos sus amigos, y ya han elegido su disfraz. Ha ido a la tienda de disfraces pero no sabe cuánto dinero va a necesitar. ¿Lo ayudamos?



Compra 3 disfraces, cada disfraz vale 25 euros. ¿Cuánto dinero tiene que pagar?

Datos:

		
25 euros	25 euros	25 euros

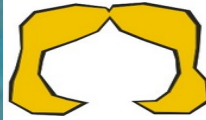
Operación:

Solución :

## 14. Analiza

Vamos a planificar la realización del disfraz. Responde a las siguientes preguntas ayudándote de las imágenes.

¿Qué lleva el disfraz en la cabeza?




¿Qué lleva en el cuerpo?



¿Y en los pies?



¿Lleva algún accesorio?



¿Qué material vais a necesitar para elaborar el disfraz? (Cartulina, goma-eva, lana, tela, papel...)



## 15. Calculamos

Para la elaboración de nuestro disfraz, antes vamos a realizar algunos cálculos.



1. ¿Cuántos compañeros y compañeras forman los grupos de la clase? ¿Cuántos grupos hay? ¿Cuántos alumnos y alumnas hay en total?

GRUPO 1	GRUPO 2	GRUPO 3	GRUPO 4
$4 + 4 + 4 + 4 =$			
$4 \times 4 =$			
TOTAL = En mi clase hay _____ alumnos y alumnas.			

2. ¿Cuántas cartulinas vas a necesitar para elaborar tu disfraz?

Cartulinas rojas	Cartulinas verdes	Cartulinas azules	Cartulinas amarillas	Cartulinas negras
$3 + 3 + 3 + 3 + 3 =$				
$3 \times 5 =$				
TOTAL = Necesito _____ cartulinas.				

## 16. ¿Cómo lo hemos hecho?

Llegó el momento de que analicemos cómo hemos desarrollado el trabajo. Por grupos debéis analizar las tareas desarrolladas por cada componente, por el grupo y finalmente, por el grupo-clase. Por grupos, rellenad la siguiente plantilla.

VALORACIÓN	SI	NO
Hemos hablado con claridad, buen volumen y entonación en las exposiciones orales.		
Hemos escuchado y respetado el turno de palabras.		
En las exposiciones orales y cuando hemos compartido reflexiones, han participado todos los miembros del grupo.		
El mural de los disfraces ha quedado bonito.		
La tabla del 1 al 100 está completa.		
Cuando hemos trabajado en grupo hemos respetado y valorado la opinión de todos y todas.		
En grupo hemos colaborado todos y todas.		
Nos hemos ayudado en la elaboración de los disfraces.		
Estamos preparados para hacer disfraces.		
Lo hemos pasado genial en la construcción del disfraz.		

# Enhorabuena... ¡Conseguido!

## 17. Créditos

---

### 1. Altavoz

Imagen de iconos de google

<https://icon-icons.com/download/86394/PNG/512/>

### 2. Sombrero de copa

Imagen de iconos de google

<https://icon-icons.com/icon/hat-beanie-hat-lord/53454>

### 3. Sombrero pameła

Imagen de iconos de google

<https://icon-icons.com/icon/summer-vacation-hat-beachwear-headwear-wear-beach/133412>

### 4. Escudo y espada

Imagen de iconos de google

<https://icon-icons.com/icon/helmet-and-sword-easter/55381>

### 5. Bigote

Imagen de iconos de google

<https://icon-icons.com/icon/Moustache/132185>

### 6. Sombrero de bruja

Imagen de iconos de google

<https://icon-icons.com/icon/hat-witch-halloween/75020>

7. Gafas y bigote

Imagen de iconos de google

<https://icon-icons.com/download/55582/PNG/512/>

8. Mago

Imagen de Publicdomainivectors

<https://publicdomainivectors.org/en/free-clipart/Wizard-old-man/88685.html>

9. Cocinero

Imagen de Publicdomainivectors

<https://publicdomainivectors.org/en/free-clipart/Chef-holding-a-plate-with-fried-chicken/88747.html>

10. Vampiro

Imagen de Publicdomainivectors

<https://publicdomainivectors.org/en/free-clipart/Vampire-with-a-cloak/88169.html>

11. Sombrero con plumas

Banco de recursos de INTEF

[file:///tmp/mozilla\\_usuario0/25470\\_\\_\\_150\\_\\_a\\_\\_1.jpg](file:///tmp/mozilla_usuario0/25470___150__a__1.jpg)

12. Pañuelo

Banco de recursos de INTEF

[http://recursostic.educacion.es//bancoimagenes/ArchivosImagenes/DVD13/CD06/24919\\_\\_\\_150\\_\\_m\\_\\_1.jpg](http://recursostic.educacion.es//bancoimagenes/ArchivosImagenes/DVD13/CD06/24919___150__m__1.jpg)

13. Casco

Banco de recursos de INTEF

[http://recursostic.educacion.es//bancoimagenes/ArchivosImagenes/DVD02/CD01/h10334\\_\\_m\\_\\_.jpg](http://recursostic.educacion.es//bancoimagenes/ArchivosImagenes/DVD02/CD01/h10334__m__.jpg)

14. Boina

Banco de recursos de INTEF

[http://recursostic.educacion.es//bancoimagenes/ArchivosImagenes/DVD01/CD05/h564\\_\\_m\\_\\_.jpg](http://recursostic.educacion.es//bancoimagenes/ArchivosImagenes/DVD01/CD05/h564__m__.jpg)

15. Peluca rubia

Banco de recursos de INTEF

[http://recursostic.educacion.es//bancoimagenes/ArchivosImagenes/DVD13/CD05/23529\\_\\_\\_10\\_\\_m\\_\\_1.jpg](http://recursostic.educacion.es//bancoimagenes/ArchivosImagenes/DVD13/CD05/23529___10__m__1.jpg)

16. Falda

Banco de recursos de INTEF

[http://recursostic.educacion.es//bancoimagenes/ArchivosImagenes/DVD08/CD01/7565\\_\\_\\_100\\_\\_m\\_\\_1.jpg](http://recursostic.educacion.es//bancoimagenes/ArchivosImagenes/DVD08/CD01/7565___100__m__1.jpg)

17. Vestido

Banco de recursos de INTEF

[http://recursostic.educacion.es//bancoimagenes/ArchivosImagenes/DVD08/CD01/7589\\_\\_\\_100\\_\\_m\\_\\_1.jpg](http://recursostic.educacion.es//bancoimagenes/ArchivosImagenes/DVD08/CD01/7589___100__m__1.jpg)

18. Camisa

Banco de recursos de INTEF

[http://recursostic.educacion.es//bancoimagenes/ArchivosImagenes/DVD08/CD01/7537\\_\\_\\_100\\_\\_m\\_\\_1.jpg](http://recursostic.educacion.es//bancoimagenes/ArchivosImagenes/DVD08/CD01/7537___100__m__1.jpg)

20. Pantalón

Banco de recursos de INTEF

[http://recursostic.educacion.es//bancoimagenes/ArchivosImagenes/DVD08/CD01/7802\\_\\_\\_100\\_\\_b\\_\\_1.jpg](http://recursostic.educacion.es//bancoimagenes/ArchivosImagenes/DVD08/CD01/7802___100__b__1.jpg)

21. Zapatos

[http://recursostic.educacion.es//bancoimagenes/ArchivosImagenes/DVD26/CD07/188774\\_\\_b\\_\\_1.jpg](http://recursostic.educacion.es//bancoimagenes/ArchivosImagenes/DVD26/CD07/188774__b__1.jpg)

Banco de recursos de INTEF

22. Botas

[http://recursostic.educacion.es/bancoimagenes/web/img/1\\_bg.gif](http://recursostic.educacion.es/bancoimagenes/web/img/1_bg.gif)

Banco de recursos de INTEF

23. Calcetines

Banco de recursos de INTEF

[http://recursostic.educacion.es//bancoimagenes/ArchivosImagenes/DVD03/CD05/h710\\_m.jpg](http://recursostic.educacion.es//bancoimagenes/ArchivosImagenes/DVD03/CD05/h710_m.jpg)

24.Espada

Banco de recursos de INTEF

[http://recursostic.educacion.es//bancoimagenes/ArchivosImagenes/DVD30/CD03/199030\\_im\\_1.jpg](http://recursostic.educacion.es//bancoimagenes/ArchivosImagenes/DVD30/CD03/199030_im_1.jpg)

25.Varita mágica

Banco de recursos de INTEF

[http://recursostic.educacion.es//bancoimagenes/ArchivosImagenes/DVD30/CD03/198991\\_im\\_1.jpg](http://recursostic.educacion.es//bancoimagenes/ArchivosImagenes/DVD30/CD03/198991_im_1.jpg)

26.Collar

Banco de recursos de INTEF

[http://recursostic.educacion.es//bancoimagenes/ArchivosImagenes/DVD13/CD06/24924\\_\\_150\\_m\\_1.jp](http://recursostic.educacion.es//bancoimagenes/ArchivosImagenes/DVD13/CD06/24924__150_m_1.jp)

27.Cesta

Banco de recursos de INTEF

[http://recursostic.educacion.es//bancoimagenes/ArchivosImagenes/DVD23/CD05/182942\\_m\\_1.jpg](http://recursostic.educacion.es//bancoimagenes/ArchivosImagenes/DVD23/CD05/182942_m_1.jpg)

28.Niño



Imagen de iconos de google

<https://icon-icons.com/download/131256/PNG/512/>

29.Niña

Imagen de iconos de google

<https://icon-icons.com/icon/woman-people-avatar-person-girl/131289>





**UNIÓN EUROPEA**  
Fondos Europeo de Desarrollo Regional



**Junta  
de Andalucía**

Consejería de Educación  
y Deporte