

CUADERNO DE DISFRACES



ÍNDICE

1. Escucha y anota	Página 03
2. !Adelante!	Página 04
3. Suma con la tabla del 100	Página 05
4. Ahora tendrás que restar	Página 06
5. Coloca los números	Página 07
6. Ahora...al contrario	Página 08
7. Suma de mayores	Página 09
8. Resta de mayores	Página 10
9. Sumamos y restamos sin llevadas	Página 11
10. Sumas y restas con llevadas	Página 12
11. Practica	Página 13
12. ¿Dónde hay más?	Página 14
13. ¿Ayudamos a Retor?	Página 15
14. Analiza	Página 16
15. Calculamos	Página 17
16. ¿Cómo lo hemos hecho?	Página 18
17. Créditos	Página 19

Cuaderno de disfraces

Este será tu cuaderno de disfraces que te acompañará en todo este REA.

¡Ánimos , somos superhéroes!



1. Escucha y anota

Anota los números que escuches en las casillas correspondientes.



A large, empty rectangular area with a light pink background, intended for students to write down the numbers they hear during the activity.

2. ¡Adelante!

Investigad cómo son los disfraces y anotad las respuestas a estas preguntas (escribe sí o no y la cantidad):

	SI /NO	CANTIDAD
1.¿Tiene casco el disfraz?		
2.¿Lleva antifaz o careta?		
3.¿Tiene capa?		
4.¿Tiene escudo?		
5.¿Lleva brazalete?		
6.¿Tiene cubre-zapatos?		
7.¿Hay disfraces de Spiderman ?		
8.¿Hay varitas mágicas?		
9.¿Hay sombreros?		
10.¿Tienen barbas?		



3. Suma con la tabla del 100

Ayúdate de esta tabla y realiza las siguientes operaciones de sumas .

1	2	3	4	5	6	7	8	9	10
11	12	13	14	15	16	17	18	19	20
21	22	23	24	25	26	27	28	29	30
31	32	33	34	35	36	37	38	39	40
41	42	43	44	45	46	47	48	49	50
51	52	53	54	55	56	57	58	59	60
61	62	63	64	65	66	67	68	69	70
71	72	73	74	75	76	77	78	79	80
81	82	83	84	85	86	87	88	89	90
91	92	93	94	95	96	97	98	99	100

Sitúate en el espacio que ocupa el primer número de la operación que vayas a realizar, a partir del siguiente número ve avanzando tantas casillas como te indica el segundo sumando y tendrás el resultado.

$10+5=$

$54+5=$

$20+2=$

$68+2=$

$32+3=$

$73+6=$

$43+6=$

$83+3=$

4. Ahora tendrás que restar...

Aquí tienes otra vez la tabla del 100:

1	2	3	4	5	6	7	8	9	10
11	12	13	14	15	16	17	18	19	20
21	22	23	24	25	26	27	28	29	30
31	32	33	34	35	36	37	38	39	40
41	42	43	44	45	46	47	48	49	50
51	52	53	54	55	56	57	58	59	60
61	62	63	64	65	66	67	68	69	70
71	72	73	74	75	76	77	78	79	80
81	82	83	84	85	86	87	88	89	90
91	92	93	94	95	96	97	98	99	100

Para hacer las siguientes operaciones, ahora debes ir para atrás. Sitúa tu dedo en el número que te indica y retrocede tantas casillas como te indique el restando. ¡Así lograrás saber el resultado!

$15-5=$

$56-5=$

$23-2=$

$68-6=$

$34-3=$

$77-7=$

$45-5=$

$89-6=$

5.Coloca los números

Coloca los números de forma correcta en la siguiente tabla:

NÚMERO	CENTENAS(C)	DECENAS(D)	UNIDADES(U)
123			
254			
365			
452			
568			
780			

6. Ahora ,al contrario...

Escribe el número correspondiente :

NÚMERO	CENTENAS(C)	DECENAS(D)	UNIDADES(U)
	8	6	5
	6	6	6
	0	9	0
	1	2	3
	5	0	7
	3	0	0

7. Suma de mayores

Realiza las siguientes sumas. No olvides colocar bien los números.


$44+23=$	$28+31=$	$57+42=$																																				
<table border="1"><tr><td></td><td>D</td><td>U</td></tr><tr><td></td><td></td><td></td></tr><tr><td>+</td><td></td><td></td></tr><tr><td></td><td></td><td></td></tr></table>		D	U				+						<table border="1"><tr><td></td><td>D</td><td>U</td></tr><tr><td></td><td></td><td></td></tr><tr><td>+</td><td></td><td></td></tr><tr><td></td><td></td><td></td></tr></table>		D	U				+						<table border="1"><tr><td></td><td>D</td><td>U</td></tr><tr><td></td><td></td><td></td></tr><tr><td>+</td><td></td><td></td></tr><tr><td></td><td></td><td></td></tr></table>		D	U				+					
	D	U																																				
+																																						
	D	U																																				
+																																						
	D	U																																				
+																																						
$36+20=$	$61+14=$	$70+18=$																																				
<table border="1"><tr><td></td><td>D</td><td>U</td></tr><tr><td></td><td></td><td></td></tr><tr><td>+</td><td></td><td></td></tr><tr><td></td><td></td><td></td></tr></table>		D	U				+						<table border="1"><tr><td></td><td>D</td><td>U</td></tr><tr><td></td><td></td><td></td></tr><tr><td>+</td><td></td><td></td></tr><tr><td></td><td></td><td></td></tr></table>		D	U				+						<table border="1"><tr><td></td><td>D</td><td>U</td></tr><tr><td></td><td></td><td></td></tr><tr><td>+</td><td></td><td></td></tr><tr><td></td><td></td><td></td></tr></table>		D	U				+					
	D	U																																				
+																																						
	D	U																																				
+																																						
	D	U																																				
+																																						



8. Resta de mayores

Realiza las siguientes restas. No olvides colocar bien los números.

$58-42=$	$35-23=$	$62-30=$																																				
<table border="1"><tr><td></td><td>D</td><td>U</td></tr><tr><td></td><td></td><td></td></tr><tr><td>+</td><td></td><td></td></tr><tr><td></td><td></td><td></td></tr></table>		D	U				+						<table border="1"><tr><td></td><td>D</td><td>U</td></tr><tr><td></td><td></td><td></td></tr><tr><td>+</td><td></td><td></td></tr><tr><td></td><td></td><td></td></tr></table>		D	U				+						<table border="1"><tr><td></td><td>D</td><td>U</td></tr><tr><td></td><td></td><td></td></tr><tr><td>+</td><td></td><td></td></tr><tr><td></td><td></td><td></td></tr></table>		D	U				+					
	D	U																																				
+																																						
	D	U																																				
+																																						
	D	U																																				
+																																						
$70-20=$	$84-22=$	$68-58=$																																				
<table border="1"><tr><td></td><td>D</td><td>U</td></tr><tr><td></td><td></td><td></td></tr><tr><td>+</td><td></td><td></td></tr><tr><td></td><td></td><td></td></tr></table>		D	U				+						<table border="1"><tr><td></td><td>D</td><td>U</td></tr><tr><td></td><td></td><td></td></tr><tr><td>+</td><td></td><td></td></tr><tr><td></td><td></td><td></td></tr></table>		D	U				+						<table border="1"><tr><td></td><td>D</td><td>U</td></tr><tr><td></td><td></td><td></td></tr><tr><td>+</td><td></td><td></td></tr><tr><td></td><td></td><td></td></tr></table>		D	U				+					
	D	U																																				
+																																						
	D	U																																				
+																																						
	D	U																																				
+																																						



9. Sumamos y restamos sin llevada

Realiza las siguientes operaciones:

$$\begin{array}{r} 33 \\ + 25 \\ \hline \end{array}$$

$$\begin{array}{r} 48 \\ - 12 \\ \hline \end{array}$$

$$\begin{array}{r} 83 \\ + 15 \\ \hline \end{array}$$

$$\begin{array}{r} 21 \\ - 11 \\ \hline \end{array}$$

$$\begin{array}{r} 66 \\ + 32 \\ \hline \end{array}$$

$$\begin{array}{r} 99 \\ - 75 \\ \hline \end{array}$$

$$\begin{array}{r} 53 \\ + 36 \\ \hline \end{array}$$

$$\begin{array}{r} 95 \\ - 35 \\ \hline \end{array}$$

$$\begin{array}{r} 43 \\ + 11 \\ \hline \end{array}$$

10. Sumas y restas con llevadas

Realiza las siguientes sumas y restas. Pon atención ahora a las llevadas.

$$\begin{array}{r} 38 \\ + 25 \\ \hline \end{array}$$

$$\begin{array}{r} 48 \\ - 19 \\ \hline \end{array}$$

$$\begin{array}{r} 83 \\ + 58 \\ \hline \end{array}$$

$$\begin{array}{r} 21 \\ - 19 \\ \hline \end{array}$$

$$\begin{array}{r} 68 \\ + 35 \\ \hline \end{array}$$

$$\begin{array}{r} 91 \\ - 75 \\ \hline \end{array}$$

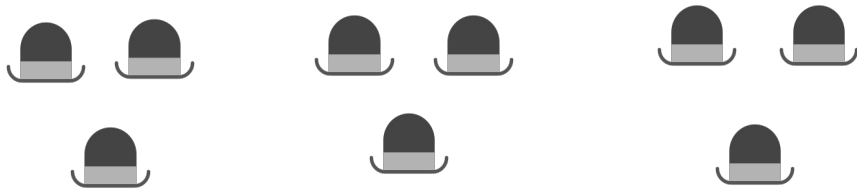
$$\begin{array}{r} 56 \\ + 37 \\ \hline \end{array}$$

$$\begin{array}{r} 95 \\ - 38 \\ \hline \end{array}$$

$$\begin{array}{r} 46 \\ + 18 \\ \hline \end{array}$$

11. Practica


Realiza las siguientes sumas repetidas, y luego realiza la multiplicación:



$$\begin{array}{ccccccc} \square & + & \square & + & \square & = & \square \\ \square & & \times & & \square & = & \square \end{array}$$












$$\begin{array}{ccccccc} \square & + & \square & = & \square \\ \square & \times & \square & = & \square \end{array}$$



$$\begin{array}{ccccccc} \square & + & \square & + & \square & = & \square \\ \square & \times & \square & = & \square \end{array}$$


12. ¿Dónde hay más?

En cada caso ,cuenta y rodea el conjunto que tiene más disfraces::

 A 3x3 grid of 9 black mustaches.	 A 3x3 grid of 9 black mustaches.	 A 3x3 grid of 9 black mustaches.
 A 3x3 grid of 9 black witch hats.	 A 3x3 grid of 9 black witch hats.	 A 3x3 grid of 9 black witch hats.
 A 3x3 grid of 9 black and white glasses.	 A 3x3 grid of 9 black and white glasses.	 A 3x3 grid of 9 black and white glasses.

13. ¿Ayudamos a Retor?

Retor necesita ayuda, ahora quieren disfrazarse todos sus amigos, y ya han elegido su disfraz. Ha ido a la tienda de disfraces pero no sabe cuánto dinero va a necesitar. ¿Lo ayudamos?



Compra 3 disfraces, cada disfraz vale 25 euros. ¿Cuánto dinero tiene que pagar?

Datos:

		
25 euros	25 euros	25 euros


Operación:

Solución :

14. Analiza

Vamos a planificar la realización del disfraz. Responde a las siguientes preguntas ayudándote de las imágenes.

¿Qué lleva el disfraz en la cabeza?



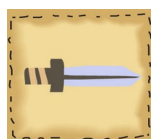
¿Qué lleva en el cuerpo?



¿Y en los pies?



¿Lleva algún accesorio?



¿Qué material vais a necesitar para elaborar el disfraz? (Cartulina, goma-eva, lana, tela, papel...)

15. Calculamos

Para la elaboración de nuestro disfraz , antes vamos a realizar algunos cálculos:



1. ¿Cuántos compañeros y compañeras forman los grupos de la clase? ¿Cuántos grupos hay? ¿Cuántos alumnos y alumnas hay en total?

GRUPO 1		GRUPO 2		GRUPO 3		GRUPO 4	
4	+	4	+	4	+	4	=
4		X		4		=	
TOTAL = En mi clase hay <input type="text"/> alumnos y alumnas.							

2. ¿Cuántas cartulinas vas a necesitar para elaborar tu disfraz?

Cartulinas rojas	Cartulinas verdes	Cartulinas azules	Cartulinas amarillas	Cartulinas negras			
3	+	3	+	3	+	3	=
3		X		5		=	
TOTAL= Necesito <input type="text"/> cartulinas .							

16. ¿Cómo lo hemos hecho?

Llegó el momento de que analicemos cómo hemos desarrollado el trabajo. Por grupos debéis analizar las tareas desarrolladas por cada componente, por el grupo y finalmente, por el grupo-clase. Por grupos, rellenad la siguiente plantilla.

VALORACIÓN	SI	NO
Hemos hablado con claridad, buen volumen y entonación en las exposiciones orales.		
Hemos escuchado y respetado el turno de palabras.		
En las exposiciones orales y cuando hemos compartido reflexiones, han participado todos los miembros del grupo.		
El mural de los disfraces ha quedado bonito.		
La tabla del 1 al 100 está completa.		
Cuando hemos trabajado en grupo hemos respetado y valorado la opinión de todos y todas.		
En grupo hemos colaborado todos y todas.		
Nos hemos ayudado en la elaboración de los disfraces.		
Estamos preparados para hacer disfraces.		
Lo hemos pasado genial en la construcción del disfraz.		

Enhorabuena...¡Conseguido!

17.Créditos

1. Altavoz

Imagen de iconos de google

<https://icon-icons.com/download/86394/PNG/512/>

2. Sombrero de copa

Imagen de iconos de google

<https://icon-icons.com/icon/hat-beanie-hat-lord/53454>

3. Sombrero pamela

Imagen de iconos de google

<https://icon-icons.com/icon/summer-vacation-hat-beachwear-headwear-wear-beach/133412>

4. Escudo y espada

Imagen de iconos de google

<https://icon-icons.com/icon/helmet-and-sword-easter/55381>

5. bigote

Imagen de iconos de google

<https://icon-icons.com/icon/Moustache/132185>

6.Sombrero de bruja

Imagen de iconos de google

<https://icon-icons.com/icon/hat-witch-halloween/75020>

7.Gafas y bigote

Imagen de iconos de google

<https://icon-icons.com/download/55582/PNG/512/>

8.Mago

Imagen de Publicdomaininventors

<https://publicdomaininventors.org/en/free-clipart/Wizard-old-man/88685.html>

9. Cocinero

Imagen de Publicdomaininventors

<https://publicdomaininventors.org/en/free-clipart/Chef-holding-a-plate-with-fried-chicken/88747.html>

10.Vampiro

Imagen de Publicdomaininventors

<https://publicdomaininventors.org/en/free-clipart/Vampire-with-a-cloak/88169.html>

11.Sombrero con plumas

Banco de recursos de INTEF

file:///tmp/mozilla_usuario0/25470__150_a_1.jpg

12.Pañuelo

Banco de recursos de INTEF

http://recursostic.educacion.es//bancoimagenes/ArchivosImagenes/DVD13/CD06/24919__150_m_1.jpg

13.Casco

Banco de recursos de INTEF

http://recursostic.educacion.es//bancoimagenes/ArchivosImagenes/DVD02/CD01/h10334_m.jpg

14. Boina

Banco de recursos de INTEF

http://recursostic.educacion.es//bancoimagenes/ArchivosImagenes/DVD01/CD05/h564_m.jpg

15.Peluca rubia

Banco de recursos de INTEF

http://recursostic.educacion.es//bancoimagenes/ArchivosImagenes/DVD13/CD05/23529_10_m_1.jpg

16.Falda

Banco de recursos de INTEF

http://recursostic.educacion.es//bancoimagenes/ArchivosImagenes/DVD08/CD01/7565_100_m_1.jpg

17.vestido

Banco de recursos de INTEF

http://recursostic.educacion.es//bancoimagenes/ArchivosImagenes/DVD08/CD01/7589_100_m_1.jpg

18.Camisa

Banco de recursos de INTEF

http://recursostic.educacion.es//bancoimagenes/ArchivosImagenes/DVD08/CD01/7537_100_m_1.jpg

20.pantalón

Banco de recursos de INTEF

http://recursostic.educacion.es//bancoimagenes/ArchivosImagenes/DVD08/CD01/7802_100_b_1.jpg

21 .zapatos

http://recursostic.educacion.es//bancoimagenes/ArchivosImagenes/DVD26/CD07/188774_b_1.jpg

Banco de recursos de INTEF

22.botas

http://recursostic.educacion.es/bancoimagenes/web/img/1_bg.gif

Banco de recursos de INTEF

23.calzetines

Banco de recursos de INTEF

http://recursostic.educacion.es//bancoimagenes/ArchivosImagenes/DVD03/CD05/h710_m.jpg

24.Espada

Banco de recursos de INTEF

http://recursostic.educacion.es//bancoimagenes/ArchivosImagenes/DVD30/CD03/199030_im_1.jpg

25.Varita mágica

Banco de recursos de INTEF

http://recursostic.educacion.es//bancoimagenes/ArchivosImagenes/DVD30/CD03/198991_im_1.jpg

26.Collar

Banco de recursos de INTEF

http://recursostic.educacion.es//bancoimagenes/ArchivosImagenes/DVD13/CD06/24924_150_m_1.jp

27.Cesta

Banco de recursos de INTEF

http://recursostic.educacion.es//bancoimagenes/ArchivosImagenes/DVD23/CD05/182942_m_1.jpg

28. Niño

Imagen de iconos de google

<https://icon-icons.com/download/131256/PNG/512/>

29 . Niña

Imagen de iconos de google

<https://icon-icons.com/icon/woman-people-avatar-person-girl/131289>



UNIÓN EUROPEA
Fondos Europeo de Desarrollo Regional



**Junta
de Andalucía**

Consejería de Educación
y Deporte