

RECETAS DE RÉCORDS

Ciencia Culinaria.

Midiendo líquidos.

El dominio de la capacidad.


Opción A: ¿Qué medida de capacidad es la más apropiada?





Nombre	
--------	--

1 El dominio de la capacidad.

1.1 Opción A: ¿Qué medida de capacidad es la más apropiada?


 Observa las siguientes imágenes.

 En todas ellas hay líquidos.


 ¿Qué unidad de capacidad utilizarías para medir el líquido de cada una de ellas?



Gota de agua



Embalse



Piscina



Garrafa



Pasta de dientes

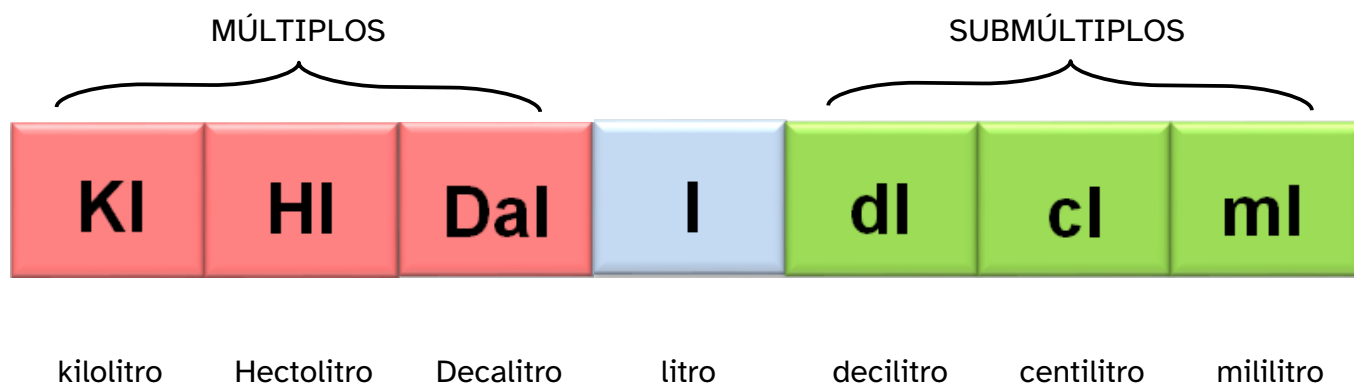


Tetrabrik de zumo

1.2. Plantilla de ayuda.



Recuerda las unidades de capacidad.



R E A
ANDALUCÍA
RECURSOS **EDUCATIVOS** ABIERTOS

Andalucía
se mueve con Europa



UNIÓN EUROPEA
Fondos Europeo de Desarrollo Regional



**Junta
de Andalucía**

Consejería de Educación
y Deporte