










Similitud de la fracción de un objeto y de una cantidad. Completa siguiendo el orden de las letras.

<p>Fracción para aplicar al objeto</p> <p>A</p> 	<p>Dibuja un objeto que puedas dividir en tantas partes iguales como dice el denominador.</p> <p>B</p> 	<p>Divide el objeto en ese número de partes.</p> <p>C</p> 	<p>Colorea las partes que indica el numerador y habrás representado esa fracción del objeto</p> <p>D</p> 	<p>La cantidad del objeto que representa esa fracción</p> <p>E</p> 
<p>Fracción para aplicar al número</p> <p>A</p> 	<p>Escribe un número que sea divisible por el denominador</p> <p>B</p> 	<p>Divide el número entre el número de partes que indica el denominador</p> <p>C</p> 	<p>¿Qué valor tienen cada parte? Multiplicalo por el numerador.</p> <p>D</p> 	<p>El resultado total será el resultado de haber calculado la fracción de ese número</p> <p>E</p> 