




## Opción A: Reconoce elementos



# 1 Opción A: Reconoce elementos

A continuación, tienes varias figuras:



1º. Puedes rellenarlas con plastilina.

2º. Repasa el borde de otro color.

3º. Enumera los objetos de las imágenes que tienen esta forma:



Los objetos que tienen esta forma son:

---



Los objetos que tienen esta forma son:

---



Los objetos que tienen esta forma son:

---

4o. Compara los objetos que tengan la misma forma.  
¿Cuál es mayor?



**UNIÓN EUROPEA**  
Fondos Europeo de Desarrollo Regional



**Junta  
de Andalucía**

Consejería de Educación  
y Deporte