

## ¡RÉTOR JONES Y LA MONTAÑA TIC!

### NO PROBLEM RÉTOR JONES

## EL PROBLEMA DE RÉTOR JONES ¡RESUELTO!



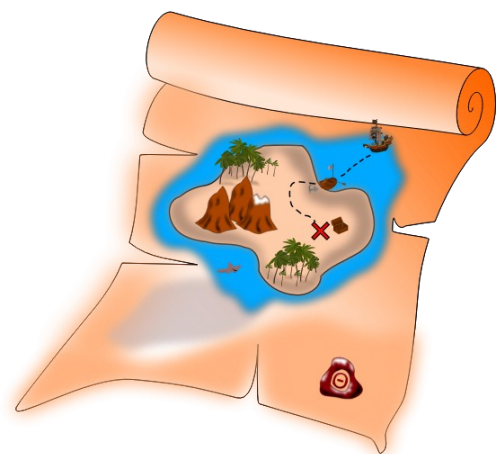
## El problema de Rétor Jones ¡Resuelto!

### ¿CÓMO DEBO ORGANIZAR MI MUSEO?

Durante los largos años que he pasado viajando, me he encontrado a muchísimos niños y niñas, les contaba mis historias y les pedía que me organizaran mi museo, pero tenían que resolverlo dibujando una gráfica, así que no eran capaces de resolvérmelo ¿Seréis capaces de resolverlo vosotros y vosotras dibujando una gráfica?


Rétor Jones les contaba:

He encontrado muchísimos tesoros, todos muy valiosos, así que creé un museo y fui colocándolos en él, pero en algunas plantas sobra mucho espacio y en otras están muy pegados. Todos los tesoros tienen aproximadamente el mismo tamaño.



Mi museo tiene 5 plantas, la última la más pequeña:

En la planta 1 tengo los tesoros que son de piedra. Como la piedra de Rosetta.



En la planta 2 tengo los tesoros hechos de barro. Como la vasija del barro.

En la planta 3 tengo los tesoros de bronce. Como el tesoro de Villena.

En la planta 4 tengo los tesoros de plata. Como el tesoro de Augsburgo.

Y en la planta 5 tengo los tesoros de oro. Como el Oscar que gané en mi último documental.

Los tesoros los fui encontrando en diferentes ciudades. Aquí os dejo el listado de las ciudades y de qué estaban hechos:

En Pekín encontré: 3 de piedra, 2 de plata y 4 de barro.

En Chicago encontré: 5 de oro y 3 de bronce.

En Moscú encontré: 1 de plata, 2 de piedra y 6 de oro.

En Buenos Aires encontré: 3 de barro y 4 de plata.

En Roma encontré: 6 de piedra, 4 de bronce y 2 de barro.

En Montreal encontré: 3 de oro y 2 de bronce.

¿Puedes colocarlos por orden de número de tesoros?

Para empezar debes escribir la pregunta que te han realizado y explicar lo que te preguntan

Pregunta: \_\_\_\_\_

\_\_\_\_\_

\_\_\_\_\_

\_\_\_\_\_

\_\_\_\_\_

\_\_\_\_\_

\_\_\_\_\_

A continuación os dejo una tabla para que paséis los datos que Rétor Jones nos ha dado.

Tipo de material del tesoro	Ciudad 1	Ciudad 2	Ciudad 3	Total
Piedra				
Barro				
Bronce				
Plata				
Oro				

Os dejo una pregunta que os ayudará a resolver el problema.

¿Cuántos tesoros han encontrado de cada material?

Piedra: \_\_\_\_\_


Barro: \_\_\_\_\_

Bronce: \_\_\_\_\_

Plata: \_\_\_\_\_

Oro: \_\_\_\_\_

También os dejo una gráfica por si queréis usarla.



¿Cómo debo organizar mi museo? O ¿Dónde colocaría cada tesoro según el tipo de material, el número de tesoros y el tamaño de la planta según el dibujo?

---



---



---



---



---



---

**R E A**  
**ANDALUCÍA**  
RECURSOS **EDUCATIVOS** ABIERTOS

  
Andalucía  
se mueve con Europa



**UNIÓN EUROPEA**  
Fondos Europeo de Desarrollo Regional



**Junta  
de Andalucía**

Consejería de Educación  
y Deporte