

**¡NOS VAMOS DE VIAJE!**

**Estaciones de aprendizaje**



# G1-ESTACIÓN 1: OPERACIONES



Para hacer vuestros presupuestos del viaje vais a tener que hacer muchas, muchas cuentas.

## SUMAR

Recuerda cómo se realizan



a)  $3.007 + 23.098 + 10.239 =$  \_\_\_\_\_

b)  $458'03 + 707'02 + 42 =$  \_\_\_\_\_

c)  $600'45 + 309 + 76.234 =$  \_\_\_\_\_

## RESTAR



a)  $67.345 - 25.132 =$  \_\_\_\_\_

b)  $82.315 - 75.037 =$  \_\_\_\_\_

c)  $1.234'45 - 876'84 =$  \_\_\_\_\_

## MULTIPLICAR



a)  $4.350 \times 8 =$  \_\_\_\_\_

b)  $12.934 \times 25 =$  \_\_\_\_\_

c)  $403.256 \times 30 =$  \_\_\_\_\_

## DIVIDIR



a)  $45.396 : 3 =$  \_\_\_\_\_

b)  $56.062 : 14 =$  \_\_\_\_\_

c)  $5.405'23 : 6 =$  \_\_\_\_\_



# G2-ESTACIÓN 1: OPERACIONES



Para hacer vuestros presupuestos del viaje vais a tener que hacer muchas, muchas cuentas.

## SUMAR

Recuerda cómo se realizan



a)  $3.007 + 23.098 + 10.239 =$  \_\_\_\_\_

b)  $458'03 + 707'02 + 42 =$  \_\_\_\_\_

c)  $600'45 + 309 + 76.234 =$  \_\_\_\_\_

## RESTAR



a)  $67.345 - 25.132 =$  \_\_\_\_\_

b)  $82.315 - 75.037 =$  \_\_\_\_\_

c)  $1.234'45 - 876'84 =$  \_\_\_\_\_

## MULTIPLICAR



a)  $4.350 \times 8 =$  \_\_\_\_\_

b)  $12.934 \times 25 =$  \_\_\_\_\_

c)  $403.256 \times 30 =$  \_\_\_\_\_

## DIVIDIR



a)  $45.396 : 3 =$  \_\_\_\_\_

b)  $56.062 : 14 =$  \_\_\_\_\_

c)  $5.405'23 : 6 =$  \_\_\_\_\_



# G3-ESTACIÓN 1: OPERACIONES



Para hacer vuestros presupuestos del viaje vais a tener que hacer muchas, muchas cuentas.

## SUMAR

Recuerda cómo se realizan



a)  $3.007 + 23.098 + 10.239 =$  \_\_\_\_\_

b)  $458'03 + 707'02 + 42 =$  \_\_\_\_\_

c)  $600'45 + 309 + 76.234 =$  \_\_\_\_\_

## RESTAR



a)  $67.345 - 25.132 =$  \_\_\_\_\_

b)  $82.315 - 75.037 =$  \_\_\_\_\_

c)  $1.234'45 - 876'84 =$  \_\_\_\_\_

## MULTIPLICAR



a)  $4.350 \times 8 =$  \_\_\_\_\_

b)  $12.934 \times 25 =$  \_\_\_\_\_

c)  $403.256 \times 30 =$  \_\_\_\_\_

## DIVIDIR



a)  $45.396 : 3 =$  \_\_\_\_\_

b)  $56.062 : 14 =$  \_\_\_\_\_

c)  $5.405'23 : 6 =$  \_\_\_\_\_





# G4-ESTACIÓN 1: OPERACIONES



Para hacer vuestros presupuestos del viaje vais a tener que hacer muchas, muchas cuentas.

## SUMAR

Recuerda cómo se realizan



a)  $3.007 + 23.098 + 10.239 =$  \_\_\_\_\_

b)  $458'03 + 707'02 + 42 =$  \_\_\_\_\_

c)  $600'45 + 309 + 76.234 =$  \_\_\_\_\_

## RESTAR



a)  $67.345 - 25.132 =$  \_\_\_\_\_

b)  $82.315 - 75.037 =$  \_\_\_\_\_

c)  $1.234'45 - 876'84 =$  \_\_\_\_\_

## MULTIPLICAR



a)  $4.350 \times 8 =$  \_\_\_\_\_

b)  $12.934 \times 25 =$  \_\_\_\_\_

c)  $403.256 \times 30 =$  \_\_\_\_\_

## DIVIDIR



a)  $45.396 : 3 =$  \_\_\_\_\_

b)  $56.062 : 14 =$  \_\_\_\_\_

c)  $5.405'23 : 6 =$  \_\_\_\_\_



# G5-ESTACIÓN 1: OPERACIONES

Para hacer vuestros presupuestos del viaje vais a tener que hacer muchas, muchas cuentas.

## SUMAR

Recuerda cómo se realizan

## RESTAR



a)  $3.007 + 23.098 + 10.239 =$  \_\_\_\_\_

b)  $458'03 + 707'02 + 42 =$  \_\_\_\_\_

c)  $600'45 + 309 + 76.234 =$  \_\_\_\_\_



a)  $67.345 - 25.132 =$  \_\_\_\_\_

b)  $82.315 - 75.037 =$  \_\_\_\_\_

c)  $1.234'45 - 876'84 =$  \_\_\_\_\_

## MULTIPLICAR

a)  $4.350 \times 8 =$  \_\_\_\_\_



b)  $12.934 \times 25 =$  \_\_\_\_\_

c)  $403.256 \times 30 =$  \_\_\_\_\_



## DIVIDIR

a)  $45.396 : 3 =$  \_\_\_\_\_

b)  $56.062 : 14 =$  \_\_\_\_\_

c)  $5.405'23 : 6 =$  \_\_\_\_\_



# G6-ESTACIÓN 1: OPERACIONES

Para hacer vuestros presupuestos del viaje vais a tener que hacer muchas, muchas cuentas.

## SUMAR

Recuerda cómo se realizan

## RESTAR



a)  $3.007 + 23.098 + 10.239 =$  \_\_\_\_\_

b)  $458'03 + 707'02 + 42 =$  \_\_\_\_\_

c)  $600'45 + 309 + 76.234 =$  \_\_\_\_\_



a)  $67.345 - 25.132 =$  \_\_\_\_\_

b)  $82.315 - 75.037 =$  \_\_\_\_\_

c)  $1.234'45 - 876'84 =$  \_\_\_\_\_

## MULTIPLICAR

a)  $4.350 \times 8 =$  \_\_\_\_\_



b)  $12.934 \times 25 =$  \_\_\_\_\_

c)  $403.256 \times 30 =$  \_\_\_\_\_



## DIVIDIR

a)  $45.396 : 3 =$  \_\_\_\_\_

b)  $56.062 : 14 =$  \_\_\_\_\_

c)  $5.405'23 : 6 =$  \_\_\_\_\_





# G1-ESTACIÓN 2: DINERO



Para hacer vuestros presupuestos del viaje vais a tener que recordar el dinero .

1-. ¿Cuánto dinero hay?

A



C



B



D



a)  $A+C=$ \_\_\_\_\_

b)  $B+D=$ \_\_\_\_\_

c)  $A+D+C=$ \_\_\_\_\_

d)  $B+A+C=$ \_\_\_\_\_

e)  $C-A=$ \_\_\_\_\_

f)  $B-D=$ \_\_\_\_\_

g)  $D \times A=$ \_\_\_\_\_

h)  $C \times B=$ \_\_\_\_\_

i)  $(C-B) \times A=$ \_\_\_\_\_

j)  $(C-D)+(A+B)=$ \_\_\_\_\_

2-. Escribid todos los billetes y monedas que existen de euros





# G2-ESTACIÓN 2: DINERO



Para hacer vuestros presupuestos del viaje vais a tener que recordar el dinero .

1-. ¿Cuánto dinero hay?

A



C



B



D



a)  $A+C=$ \_\_\_\_\_

b)  $B+D=$ \_\_\_\_\_

c)  $A+D+C=$ \_\_\_\_\_

d)  $B+A+C=$ \_\_\_\_\_

e)  $C-A=$ \_\_\_\_\_

f)  $B-D=$ \_\_\_\_\_

g)  $D \times A=$ \_\_\_\_\_

h)  $C \times B=$ \_\_\_\_\_

i)  $(C-B) \times A=$ \_\_\_\_\_

j)  $(C-D)+(A+B)=$ \_\_\_\_\_

2-. Escribid todos los billetes y monedas que existen de euros



# G3-ESTACIÓN 2: DINERO



Para hacer vuestros presupuestos del viaje vais a tener que recordar el dinero .

1-. ¿Cuánto dinero hay?

A



C



B



D



a)  $A+C=$ \_\_\_\_\_

b)  $B+D=$ \_\_\_\_\_

c)  $A+D+C=$ \_\_\_\_\_

d)  $B+A+C=$ \_\_\_\_\_

e)  $C-A=$ \_\_\_\_\_

f)  $B-D=$ \_\_\_\_\_

g)  $D \times A=$ \_\_\_\_\_

h)  $C \times B=$ \_\_\_\_\_

i)  $(C-B) \times A=$ \_\_\_\_\_

j)  $(C-D)+(A+B)=$ \_\_\_\_\_

2-. Escribid todos los billetes y monedas que existen de euros





# G4-ESTACIÓN 2: DINERO



Para hacer vuestros presupuestos del viaje vais a tener que recordar el dinero .

1-. ¿Cuánto dinero hay?

A



C



B



D



a)  $A+C=$ \_\_\_\_\_

b)  $B+D=$ \_\_\_\_\_

c)  $A+D+C=$ \_\_\_\_\_

d)  $B+A+C=$ \_\_\_\_\_

e)  $C-A=$ \_\_\_\_\_

f)  $B-D=$ \_\_\_\_\_

g)  $D \times A=$ \_\_\_\_\_

h)  $C \times B=$ \_\_\_\_\_

i)  $(C-B) \times A=$ \_\_\_\_\_

j)  $(C-D)+(A+B)=$ \_\_\_\_\_

2-. Escribid todos los billetes y monedas que existen de euros



# G5-ESTACIÓN 2: DINERO



Para hacer vuestros presupuestos del viaje vais a tener que recordar el dinero .

1-. ¿Cuánto dinero hay?

A



C



B



D



a)  $A+C=$ \_\_\_\_\_

b)  $B+D=$ \_\_\_\_\_

c)  $A+D+C=$ \_\_\_\_\_

d)  $B+A+C=$ \_\_\_\_\_

e)  $C-A=$ \_\_\_\_\_

f)  $B-D=$ \_\_\_\_\_

g)  $D \times A=$ \_\_\_\_\_

h)  $C \times B=$ \_\_\_\_\_

i)  $(C-B) \times A=$ \_\_\_\_\_

j)  $(C-D)+(A+B)=$ \_\_\_\_\_

2-. Escribid todos los billetes y monedas que existen de euros





# G6-ESTACIÓN 2: DINERO



Para hacer vuestros presupuestos del viaje vais a tener que recordar el dinero .

1-. ¿Cuánto dinero hay?

A



C



B



D



a)  $A+C=$ \_\_\_\_\_

b)  $B+D=$ \_\_\_\_\_

c)  $A+D+C=$ \_\_\_\_\_

d)  $B+A+C=$ \_\_\_\_\_

e)  $C-A=$ \_\_\_\_\_

f)  $B-D=$ \_\_\_\_\_

g)  $D \times A=$ \_\_\_\_\_

h)  $C \times B=$ \_\_\_\_\_

i)  $(C-B) \times A=$ \_\_\_\_\_

j)  $(C-D)+(A+B)=$ \_\_\_\_\_

2-. Escribid todos los billetes y monedas que existen de euros.



# G1-ESTACIÓN 3: CÁLCULO MENTAL

Para hacer vuestros presupuestos del viaje vais a tener que hacer muchos cálculos mentales.

## SUMA MENTALMENTE:

$* 181+100=$ \_\_\_\_\_

$* 234+200=$ \_\_\_\_\_

$* 285+300$ \_\_\_\_\_

$* 546+500$ \_\_\_\_\_

$* 2.345+1000$ \_\_\_\_\_

$* 7.987+2000$ \_\_\_\_\_

$* 4.500+5.000$ \_\_\_\_\_

$* 6.407+7.000$ \_\_\_\_\_

## RESTA MENTALMENTE:

$* 181+100=$ \_\_\_\_\_

$* 234+200=$ \_\_\_\_\_

$* 285+300$ \_\_\_\_\_

$* 546+500$ \_\_\_\_\_

$* 2.345+1000$ \_\_\_\_\_

$* 7.987+2000$ \_\_\_\_\_

$* 4.500+5.000$ \_\_\_\_\_

$* 6.407+7.000$ \_\_\_\_\_

## MULTIPLICA MENTALMENTE:

$* 256x100=$ \_\_\_\_\_

$* 834x1000=$ \_\_\_\_\_

$* 678x1.000$ \_\_\_\_\_

$* 5468x100$ \_\_\_\_\_

$* 23'45x10$ \_\_\_\_\_

$* 798'7x100$ \_\_\_\_\_

$* 4.500x1.000$ \_\_\_\_\_

$* 64'07+100$ \_\_\_\_\_

## DIVIDE MENTALMENTE:

$* 8.000 : 10=$ \_\_\_\_\_

$* 2.300 : 100=$ \_\_\_\_\_

$* 8.700 : 10$ \_\_\_\_\_


$* 16.000 : 200$ \_\_\_\_\_

$* 234'5 : 10$ \_\_\_\_\_

$* 798'7 : 100$ \_\_\_\_\_

$* 4.523'08 : 1.000$ \_\_\_\_\_

$* 640'7 : 100$ \_\_\_\_\_



# G2-ESTACIÓN 3: CÁLCULO MENTAL

Para hacer vuestros presupuestos del viaje vais a tener que hacer muchos cálculos mentales.

## SUMA MENTALMENTE:

* $181+100=$ _____	* $234+200=$ _____	* $285+300=$ _____	* $546+500=$ _____
* $2.345+1000=$ _____	* $7.987+2000=$ _____	* $4.500+5.000=$ _____	* $6.407+7.000=$ _____

## RESTA MENTALMENTE:


* $181+100=$ _____	* $234+200=$ _____	* $285+300=$ _____	* $546+500=$ _____
* $2.345+1000=$ _____	* $7.987+2000=$ _____	* $4.500+5.000=$ _____	* $6.407+7.000=$ _____

## MULTIPLICA MENTALMENTE:

* $256 \times 100 =$ _____	* $834 \times 1000 =$ _____	* $678 \times 1.000 =$ _____	* $5468 \times 100 =$ _____
* $23'45 \times 10 =$ _____	* $798'7 \times 100 =$ _____	* $4.500 \times 1.000 =$ _____	* $64'07 \times 100 =$ _____

## DIVIDE MENTALMENTE:

* $8.000 : 10 =$ _____	* $2.300 : 100 =$ _____	* $8.700 : 10 =$ _____	* $16.000 : 200 =$ _____
* $234'5 : 10 =$ _____	* $798'7 : 100 =$ _____	* $4.523'08 : 1.000 =$ _____	* $640'7 : 100 =$ _____





# G3-ESTACIÓN 3: CÁLCULO MENTAL

Para hacer vuestros presupuestos del viaje vais a tener que hacer muchos cálculos mentales.

## SUMA MENTALMENTE:

* $181+100=$ _____	* $234+200=$ _____	* $285+300=$ _____	* $546+500=$ _____
* $2.345+1000=$ _____	* $7.987+2000=$ _____	* $4.500+5.000=$ _____	* $6.407+7.000=$ _____

## RESTA MENTALMENTE:


* $181+100=$ _____	* $234+200=$ _____	* $285+300=$ _____	* $546+500=$ _____
* $2.345+1000=$ _____	* $7.987+2000=$ _____	* $4.500+5.000=$ _____	* $6.407+7.000=$ _____

## MULTIPLICA MENTALMENTE:

* $256 \times 100 =$ _____	* $834 \times 1000 =$ _____	* $678 \times 1.000 =$ _____	* $5468 \times 100 =$ _____
* $23'45 \times 10 =$ _____	* $798'7 \times 100 =$ _____	* $4.500 \times 1.000 =$ _____	* $64'07 \times 100 =$ _____

## DIVIDE MENTALMENTE:

* $8.000 : 10 =$ _____	* $2.300 : 100 =$ _____	* $8.700 : 10 =$ _____	* $16.000 : 200 =$ _____
* $234'5 : 10 =$ _____	* $798'7 : 100 =$ _____	* $4.523'08 : 1.000 =$ _____	* $640'7 : 100 =$ _____





# G4-ESTACIÓN 3: CÁLCULO MENTAL

Para hacer vuestros presupuestos del viaje vais a tener que hacer muchos cálculos mentales.

## SUMA MENTALMENTE:

* $181+100=$ _____	* $234+200=$ _____	* $285+300=$ _____	* $546+500=$ _____
* $2.345+1000=$ _____	* $7.987+2000=$ _____	* $4.500+5.000=$ _____	* $6.407+7.000=$ _____

## RESTA MENTALMENTE:


* $181+100=$ _____	* $234+200=$ _____	* $285+300=$ _____	* $546+500=$ _____
* $2.345+1000=$ _____	* $7.987+2000=$ _____	* $4.500+5.000=$ _____	* $6.407+7.000=$ _____

## MULTIPLICA MENTALMENTE:

* $256 \times 100 =$ _____	* $834 \times 1000 =$ _____	* $678 \times 1.000 =$ _____	* $5468 \times 100 =$ _____
* $23'45 \times 10 =$ _____	* $798'7 \times 100 =$ _____	* $4.500 \times 1.000 =$ _____	* $64'07 \times 100 =$ _____

## DIVIDE MENTALMENTE:

* $8.000 : 10 =$ _____	* $2.300 : 100 =$ _____	* $8.700 : 10 =$ _____	* $16.000 : 200 =$ _____
* $234'5 : 10 =$ _____	* $798'7 : 100 =$ _____	* $4.523'08 : 1.000 =$ _____	* $640'7 : 100 =$ _____



# G5-ESTACIÓN 3: CÁLCULO MENTAL

Para hacer vuestros presupuestos del viaje vais a tener que hacer muchos cálculos mentales.

## SUMA MENTALMENTE:

* $181+100=$ _____	* $234+200=$ _____	* $285+300=$ _____	* $546+500=$ _____
* $2.345+1000=$ _____	* $7.987+2000=$ _____	* $4.500+5.000=$ _____	* $6.407+7.000=$ _____

## RESTA MENTALMENTE:


* $181+100=$ _____	* $234+200=$ _____	* $285+300=$ _____	* $546+500=$ _____
* $2.345+1000=$ _____	* $7.987+2000=$ _____	* $4.500+5.000=$ _____	* $6.407+7.000=$ _____

## MULTIPLICA MENTALMENTE:

* $256 \times 100 =$ _____	* $834 \times 1000 =$ _____	* $678 \times 1.000 =$ _____	* $5468 \times 100 =$ _____
* $23'45 \times 10 =$ _____	* $798'7 \times 100 =$ _____	* $4.500 \times 1.000 =$ _____	* $64'07 \times 100 =$ _____

## DIVIDE MENTALMENTE:

* $8.000 : 10 =$ _____	* $2.300 : 100 =$ _____	* $8.700 : 10 =$ _____	* $16.000 : 200 =$ _____
* $234'5 : 10 =$ _____	* $798'7 : 100 =$ _____	* $4.523'08 : 1.000 =$ _____	* $640'7 : 100 =$ _____



# G6-ESTACIÓN 3: CÁLCULO MENTAL

Para hacer vuestros presupuestos del viaje vais a tener que hacer muchos cálculos mentales.

## SUMA MENTALMENTE:

$* 181+100=$ \_\_\_\_\_

$* 234+200=$ \_\_\_\_\_

$* 285+300=$ \_\_\_\_\_

$* 546+500=$ \_\_\_\_\_

$* 2.345+1000=$ \_\_\_\_\_

$* 7.987+2000=$ \_\_\_\_\_

$* 4.500+5.000=$ \_\_\_\_\_

$* 6.407+7.000=$ \_\_\_\_\_

## RESTA MENTALMENTE:

$* 181+100=$ \_\_\_\_\_

$* 234+200=$ \_\_\_\_\_

$* 285+300=$ \_\_\_\_\_

$* 546+500=$ \_\_\_\_\_

$* 2.345+1000=$ \_\_\_\_\_

$* 7.987+2000=$ \_\_\_\_\_

$* 4.500+5.000=$ \_\_\_\_\_

$* 6.407+7.000=$ \_\_\_\_\_

## MULTIPLICA MENTALMENTE:

$* 256 \times 100 =$ \_\_\_\_\_

$* 834 \times 1000 =$ \_\_\_\_\_

$* 678 \times 1.000 =$ \_\_\_\_\_

$* 5468 \times 100 =$ \_\_\_\_\_

$* 23'45 \times 10 =$ \_\_\_\_\_

$* 798'7 \times 100 =$ \_\_\_\_\_

$* 4.500 \times 1.000 =$ \_\_\_\_\_

$* 64'07 + 100 =$ \_\_\_\_\_

## DIVIDE MENTALMENTE:

$* 8.000 : 10 =$ \_\_\_\_\_

$* 2.300 : 100 =$ \_\_\_\_\_

$* 8.700 : 10 =$ \_\_\_\_\_


$* 16.000 : 200 =$ \_\_\_\_\_

$* 234'5 : 10 =$ \_\_\_\_\_

$* 798'7 : 100 =$ \_\_\_\_\_

$* 4.523'08 : 1.000 =$ \_\_\_\_\_

$* 640'7 : 100 =$ \_\_\_\_\_



# G1-ESTACIÓN 4: DISTANCIAS

Para hacer vuestros presupuestos del viaje vais a tener que trabajar con distancias.



Dist. Km	Sevilla	Málaga	Córdoba	Granada	Almería	Huelva	Cádiz	Jaén
Sevilla		210	143	252	409	91	123	253
Málaga	210		159	124	201	299	237	204
Córdoba	143	157		159	314	231	253	116
Granada	251	124	160		158	341	330	92
Almería	408	200	314	158		497	438	216
Huelva	91	299	232	341	498		209	342
Cádiz	123	235	252	330	438	210		362
Jaén	255	202	119	90	216	343	364	

1-. Observa este cuadro con las distancias entre las capitales de provincia de Andalucía. Calcula en km. Los siguientes desplazamientos.

a) Sevilla-Málaga-Cádiz:\_\_\_\_\_ b) Jaén-Sevilla-Almería\_\_\_\_\_

c) Córdoba-Huelva-Jaén\_\_\_\_\_ d) Granada-Cádiz-Huelva\_\_\_\_\_

2-. ¿Cuál será la distancia para recorrer las 8 capitales?  
\_\_\_\_\_





# G2-ESTACIÓN 4: DISTANCIAS



Para hacer vuestros presupuestos del viaje vais a tener que trabajar con distancias.


Dist. Km	Sevilla	Málaga	Córdoba	Granada	Almería	Huelva	Cádiz	Jaén
Sevilla		210	143	252	409	91	123	253
Málaga	210		159	124	201	299	237	204
Córdoba	143	157		159	314	231	253	116
Granada	251	124	160		158	341	330	92
Almería	408	200	314	158		497	438	216
Huelva	91	299	232	341	498		209	342
Cádiz	123	235	252	330	438	210		362
Jaén	255	202	119	90	216	343	364	

1-. Observa este cuadro con las distancias entre las capitales de provincia de Andalucía. Calcula en km. Los siguientes desplazamientos.

a) Sevilla-Málaga-Cádiz:\_\_\_\_\_ b) Jaén-Sevilla-Almería\_\_\_\_\_

c) Córdoba-Huelva-Jaén\_\_\_\_\_ d) Granada-Cádiz-Huelva\_\_\_\_\_

2-. ¿Cuál será la distancia para recorrer las 8 capitales?  
\_\_\_\_\_



# G3-ESTACIÓN 4: DISTANCIAS



Para hacer vuestros presupuestos del viaje vais a tener que trabajar con distancias.


Dist. Km	Sevilla	Málaga	Córdoba	Granada	Almería	Huelva	Cádiz	Jaén
Sevilla		210	143	252	409	91	123	253
Málaga	210		159	124	201	299	237	204
Córdoba	143	157		159	314	231	253	116
Granada	251	124	160		158	341	330	92
Almería	408	200	314	158		497	438	216
Huelva	91	299	232	341	498		209	342
Cádiz	123	235	252	330	438	210		362
Jaén	255	202	119	90	216	343	364	

1-. Observa este cuadro con las distancias entre las capitales de provincia de Andalucía. Calcula en km. Los siguientes desplazamientos.

a) Sevilla-Málaga-Cádiz:\_\_\_\_\_ b) Jaén-Sevilla-Almería\_\_\_\_\_

c) Córdoba-Huelva-Jaén\_\_\_\_\_ d) Granada-Cádiz-Huelva\_\_\_\_\_

2-. ¿Cuál será la distancia para recorrer las 8 capitales?  
\_\_\_\_\_



# G4-ESTACIÓN 4: DISTANCIAS



Para hacer vuestros presupuestos del viaje vais a tener que trabajar con distancias.


Dist. Km	Sevilla	Málaga	Córdoba	Granada	Almería	Huelva	Cádiz	Jaén
Sevilla		210	143	252	409	91	123	253
Málaga	210		159	124	201	299	237	204
Córdoba	143	157		159	314	231	253	116
Granada	251	124	160		158	341	330	92
Almería	408	200	314	158		497	438	216
Huelva	91	299	232	341	498		209	342
Cádiz	123	235	252	330	438	210		362
Jaén	255	202	119	90	216	343	364	

1-. Observa este cuadro con las distancias entre las capitales de provincia de Andalucía. Calcula en km. Los siguientes desplazamientos.

a) Sevilla-Málaga-Cádiz:\_\_\_\_\_ b) Jaén-Sevilla-Almería\_\_\_\_\_

c) Córdoba-Huelva-Jaén\_\_\_\_\_ d) Granada-Cádiz-Huelva\_\_\_\_\_

2-. ¿Cuál será la distancia para recorrer las 8 capitales?  
\_\_\_\_\_





# G5-ESTACIÓN 4: DISTANCIAS



Para hacer vuestros presupuestos del viaje vais a tener que trabajar con distancias.


Dist. Km	Sevilla	Málaga	Córdoba	Granada	Almería	Huelva	Cádiz	Jaén
Sevilla		210	143	252	409	91	123	253
Málaga	210		159	124	201	299	237	204
Córdoba	143	157		159	314	231	253	116
Granada	251	124	160		158	341	330	92
Almería	408	200	314	158		497	438	216
Huelva	91	299	232	341	498		209	342
Cádiz	123	235	252	330	438	210		362
Jaén	255	202	119	90	216	343	364	

1-. Observa este cuadro con las distancias entre las capitales de provincia de Andalucía. Calcula en km. Los siguientes desplazamientos.

a) Sevilla-Málaga-Cádiz:\_\_\_\_\_ b) Jaén-Sevilla-Almería\_\_\_\_\_

c) Córdoba-Huelva-Jaén\_\_\_\_\_ d) Granada-Cádiz-Huelva\_\_\_\_\_

2-. ¿Cuál será la distancia para recorrer las 8 capitales?  
\_\_\_\_\_



# G6-ESTACIÓN 4: DISTANCIAS



Para hacer vuestros presupuestos del viaje vais a tener que trabajar con distancias.


Dist. Km	Sevilla	Málaga	Córdoba	Granada	Almería	Huelva	Cádiz	Jaén
Sevilla		210	143	252	409	91	123	253
Málaga	210		159	124	201	299	237	204
Córdoba	143	157		159	314	231	253	116
Granada	251	124	160		158	341	330	92
Almería	408	200	314	158		497	438	216
Huelva	91	299	232	341	498		209	342
Cádiz	123	235	252	330	438	210		362
Jaén	255	202	119	90	216	343	364	

1-. Observa este cuadro con las distancias entre las capitales de provincia de Andalucía. Calcula en km. Los siguientes desplazamientos.

a) Sevilla-Málaga-Cádiz:\_\_\_\_\_ b) Jaén-Sevilla-Almería\_\_\_\_\_

c) Córdoba-Huelva-Jaén\_\_\_\_\_ d) Granada-Cádiz-Huelva\_\_\_\_\_

2-. ¿Cuál será la distancia para recorrer las 8 capitales?  
\_\_\_\_\_



# G1-ESTACIÓN 5: PESO



Para hacer vuestros equipajes para el viaje tendréis que trabajar las medidas de masa

1-. Calcula el peso de las siguientes combinaciones de equipaje:



**A**



**B**



**C**

a)  $A+B+C$ :\_\_\_\_\_

b)  $C+F+D$ :\_\_\_\_\_

c)  $A+F+E$ :\_\_\_\_\_

d)  $A+B+C+D+E+F$ :\_\_\_\_\_

e)  $(A+B+C)-(D+E+F)$ :\_\_\_\_\_



**D**




**E**



**F**


f)  $2A+3D+4C$ :\_\_\_\_\_

g)  $5E+1A+3D$ :\_\_\_\_\_





# G2-ESTACIÓN 5: PESO



Para hacer vuestros equipajes para el viaje tendréis que trabajar las medidas de masa

1-. Calcula el peso de las siguientes combinaciones de equipaje:



**A**



**B**



**C**

a)  $A+B+C$ :\_\_\_\_\_

b)  $C+F+D$ :\_\_\_\_\_

c)  $A+F+E$ :\_\_\_\_\_

d)  $A+B+C+D+E+F$ :\_\_\_\_\_

e)  $(A+B+C)-(D+E+F)$ :\_\_\_\_\_



**D**



**E**




**F**

f)  $2A+3D+4C$ :\_\_\_\_\_

g)  $5E+1A+3D$ :\_\_\_\_\_



# G3-ESTACIÓN 5: PESO



Para hacer vuestros equipajes para el viaje tendréis que trabajar las medidas de masa

1-. Calcula el peso de las siguientes combinaciones de equipaje:



**A**



**B**



**C**

a)  $A+B+C$ :\_\_\_\_\_

b)  $C+F+D$ :\_\_\_\_\_

c)  $A+F+E$ :\_\_\_\_\_

d)  $A+B+C+D+E+F$ :\_\_\_\_\_

e)  $(A+B+C)-(D+E+F)$ :\_\_\_\_\_



**D**



**E**



**F**

f)  $2A+3D+4C$ :\_\_\_\_\_

g)  $5E+1A+3D$ :\_\_\_\_\_



# G4-ESTACIÓN 5: PESO



Para hacer vuestros equipajes para el viaje tendréis que trabajar las medidas de masa

1-. Calcula el peso de las siguientes combinaciones de equipaje:



**A**



**B**



**C**

a)  $A+B+C$ :\_\_\_\_\_

b)  $C+F+D$ :\_\_\_\_\_

c)  $A+F+E$ :\_\_\_\_\_

d)  $A+B+C+D+E+F$ :\_\_\_\_\_

e)  $(A+B+C)-(D+E+F)$ :\_\_\_\_\_



**D**




**E**



**F**

f)  $2A+3D+4C$ :\_\_\_\_\_

g)  $5E+1A+3D$ :\_\_\_\_\_





# G5-ESTACIÓN 5: PESO



Para hacer vuestros equipajes para el viaje tendréis que trabajar las medidas de masa

1-. Calcula el peso de las siguientes combinaciones de equipaje:



**A**



**B**



**C**

a)  $A+B+C$ :\_\_\_\_\_

b)  $C+F+D$ :\_\_\_\_\_

c)  $A+F+E$ :\_\_\_\_\_

d)  $A+B+C+D+E+F$ :\_\_\_\_\_

e)  $(A+B+C)-(D+E+F)$ :\_\_\_\_\_



**D**




**E**



**F**

f)  $2A+3D+4C$ :\_\_\_\_\_

g)  $5E+1A+3D$ :\_\_\_\_\_



# G6-ESTACIÓN 5: PESO



Para hacer vuestros equipajes para el viaje tendréis que trabajar las medidas de masa

1-. Calcula el peso de las siguientes combinaciones de equipaje:



**A**



**B**



**C**

a)  $A+B+C$ :\_\_\_\_\_

b)  $C+F+D$ :\_\_\_\_\_

c)  $A+F+E$ :\_\_\_\_\_

d)  $A+B+C+D+E+F$ :\_\_\_\_\_

e)  $(A+B+C)-(D+E+F)$ :\_\_\_\_\_



**D**




**E**



**F**

f)  $2A+3D+4C$ :\_\_\_\_\_

g)  $5E+1A+3D$ :\_\_\_\_\_




# G1-ESTACIÓN 6: REDONDEO

Para hacer vuestros presupuestos tendréis que ir redondeando el mismo.

1-. Redondea los precios de este presupuesto como el ejemplo.

CONCEPTO	PRECIO	REDONDEO
Tarifa aérea (Avión)	1.785€	1.800€
Desplazamiento Hotel	97€	
Hotel	677€	
Alquiler Coche	815€	
Desayunos	48€	
Comidas	221€	
Cenas	199€	
Teatros	375€	
Cines	77€	
Regalos de recuerdo	101€	
TOTAL		






# G2-ESTACIÓN 6: REDONDEO

Para hacer vuestros presupuestos tendréis que ir redondeando el mismo.

1-. Redondea los precios de este presupuesto como el ejemplo.

CONCEPTO	PRECIO	REDONDEO
Tarifa aérea (Avión)	1.785€	1.800€
Desplazamiento Hotel	97€	
Hotel	677€	
Alquiler Coche	815€	
Desayunos	48€	
Comidas	221€	
Cenas	199€	
Teatros	375€	
Cines	77€	
Regalos de recuerdo	101€	
TOTAL		




# G3-ESTACIÓN 6: REDONDEO

Para hacer vuestros presupuestos tendréis que ir redondeando el mismo.

1-. Redondea los precios de este presupuesto como el ejemplo.

CONCEPTO	PRECIO	REDONDEO
Tarifa aérea (Avión)	1.785€	1.800€
Desplazamiento Hotel	97€	
Hotel	677€	
Alquiler Coche	815€	
Desayunos	48€	
Comidas	221€	
Cenas	199€	
Teatros	375€	
Cines	77€	
Regalos de recuerdo	101€	
TOTAL		




# G4-ESTACIÓN 6: REDONDEO

Para hacer vuestros presupuestos tendréis que ir redondeando el mismo.

1-. Redondea los precios de este presupuesto como el ejemplo.

CONCEPTO	PRECIO	REDONDEO
Tarifa aérea (Avión)	1.785€	1.800€
Desplazamiento Hotel	97€	
Hotel	677€	
Alquiler Coche	815€	
Desayunos	48€	
Comidas	221€	
Cenas	199€	
Teatros	375€	
Cines	77€	
Regalos de recuerdo	101€	
TOTAL		




# G5-ESTACIÓN 6: REDONDEO

Para hacer vuestros presupuestos tendréis que ir redondeando el mismo.

1-. Redondea los precios de este presupuesto como el ejemplo.

CONCEPTO	PRECIO	REDONDEO
Tarifa aérea (Avión)	1.785€	1.800€
Desplazamiento Hotel	97€	
Hotel	677€	
Alquiler Coche	815€	
Desayunos	48€	
Comidas	221€	
Cenas	199€	
Teatros	375€	
Cines	77€	
Regalos de recuerdo	101€	
TOTAL		






# G6-ESTACIÓN 6: REDONDEO

Para hacer vuestros presupuestos tendréis que ir redondeando el mismo.

1-. Redondea los precios de este presupuesto como el ejemplo.

CONCEPTO	PRECIO	REDONDEO
Tarifa aérea (Avión)	1.785€	1.800€
Desplazamiento Hotel	97€	
Hotel	677€	
Alquiler Coche	815€	
Desayunos	48€	
Comidas	221€	
Cenas	199€	
Teatros	375€	
Cines	77€	
Regalos de recuerdo	101€	
TOTAL		



**R** **E** **A**  
A N D A L U C Í A  
RECURSOS EDUCATIVOS ABIERTOS

