










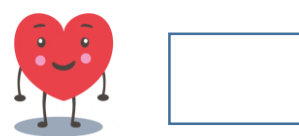
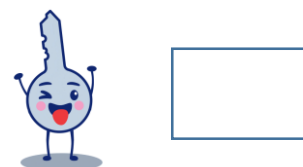


Retos grupales



1. ¿Cuánto vale cada personaje?

	+		=	8		
	-		=	3		
	+	3	=			
	-	3	=	2		
	+		+		=	



2. ¿Cuál es la cifra correcta? Explicad a tus compañeros y compañeras el proceso seguido.

6 y 4 =	210
9 y 2 =	711
10 y 6 =	416
24 y 5 =	1929
10 y 3 =	

3. ¿De qué número se trata?

--	--	--

- La suma de sus cifras es 15.
- Las unidades son la única cifra impar.
- La cifra de las centenas es el doble que la cifra de las decenas.

4. ¿Qué se esconde? Descifra

2	22	5	14

21	19	1	2	1	10	16

8	1	20

3	16	14	20	5	7	22	9	4	16	

21	22

3	19	16	13	16

A	B	C	D	E	F	G	H	I	J	K	L	M	N
1	2	3	4	5	6	7	8	9	10	11	12	13	14

Ñ	O	P	Q	R	S	T	U	V	W	X	Y	Z
15	16	17	18	19	20	21	22	23	24	25	26	27



UNIÓN EUROPEA
Fondos Europeo de Desarrollo Regional



**Junta
de Andalucía**

Consejería de Educación
y Deporte