

MI COLEGIO SEGÚN IMHOTEP

Mira, observa y anota.

Recordamos lo que sabemos.

Cada figura con su nombre.


Cada oveja con su pareja.




Nombre	
--------	--

1 Recordamos lo que sabemos

1.1 Cada figura con su nombre. Cada oveja con su pareja.




Señala la opción correcta.



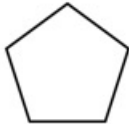
¿De qué figura se trata?

- Triángulo
- Pentágono
- Rombo
- Círculo
- Rectángulo
- Hexágono
- Cuadrado




¿De qué figura se trata?

- Cuadrado
- Hexágono
- Rectángulo
- Rombo
- Pentágono
- Círculo
- Triángulo



¿De qué figura se trata?

- Cuadrado
- Círculo
- Pentágono
- Rombo
- Hexágono
- Rectángulo
- Triángulo



¿De qué figura se trata?

- Hexágono
- Círculo
- Rombo
- Triángulo
- Pentágono
- Rectángulo
- Cuadrado



¿De qué figura se trata?

- Círculo
- Hexágono
- Rombo
- Triángulo
- Cuadrado
- Rectángulo
- Pentágono



¿De qué figura se trata?

- Triángulo
- Rectángulo
- Hexágono
- Círculo
- Pentágono
- Cuadrado
- Rombo



¿De qué figura se trata?

- Pentágono
- Círculo
- Triángulo
- Rombo
- Cuadrado
- Rectángulo
- Hexágono



UNIÓN EUROPEA
Fondos Europeo de Desarrollo Regional



**Junta
de Andalucía**

Consejería de Educación
y Deporte