

## MI COLEGIO SEGÚN IMHOTEP

Mira, observa y anota.

Recordamos lo que sabemos.

Veo, veo...¿qué ves?

Completa la información.



Nombre


# 1 Recordamos lo que sabemos

## 1.1 Veo, veo... ¿qué ves? Completa la información.



Lee las siguientes definiciones.


**Triángulo:** polígono de tres lados.




**Cuadrado:** polígono de cuatro lados y todos son iguales.



**Círculo:** figura formada por una línea curva cerrada.



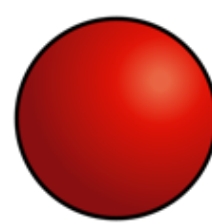
**Pirámide:** cuerpo geométrico que termina en punta.



**Prisma:** cuerpo geométrico formado por cuadriláteros.



**Esfera:** cuerpo geométrico que tiene la superficie curva.





Completa las frases con las palabras que aparecen debajo.

- Un triángulo es un polígono de
- Un cuadrado es un polígono de cuatro lados y todos son
- Un  es una figura formada por una línea curva cerrada.
- Una pirámide es una figura geométrica que termina en
- Un prisma es un cuerpo geométrico formado por
- La  es un cuerpo geométrico que tiene la superficie curva.

tres lados

cuadriláteros

iguales

punta

círculo

esfera



**UNIÓN EUROPEA**  
Fondos Europeo de Desarrollo Regional



**Junta  
de Andalucía**

Consejería de Educación  
y Deporte