

MI COLEGIO SEGÚN IMHOTEP

Mira, observa y anota.

Recordamos lo que sabemos.

¿Qué cuerpo geométrico es?

Adivina cuál es cuál.



Nombre

1 Recordamos lo que sabemos

1.1 ¿Qué cuerpo geométrico es? Adivina cuál es cuál.



Recorta las etiquetas y pégalas en las figuras que te ha dado tu maestro o maestra.

PRISMA

PIRÁMIDE

CILINDRO


CONO

ESFERA

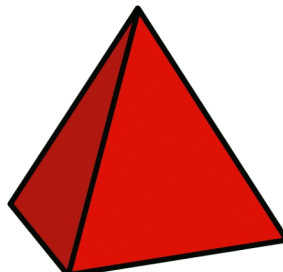


RECORDAMOS LOS CUERPOS GEOMÉTRICOS


PRISMA




PIRÁMIDE




CILINDRO



CONO



ESFERA





UNIÓN EUROPEA
Fondos Europeo de Desarrollo Regional



**Junta
de Andalucía**

Consejería de Educación
y Deporte