

LAS DOCE PRUEBAS DE RÉTOR

Paso a paso hacia la meta

El valor de las cifras

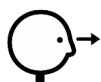
Opción A: ¿Cuánto vale cada cifra?



Nombre

1 El valor de las cifras.

1.1 Opción A: Plantilla de ayuda.

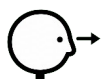


Observa el número 752.388

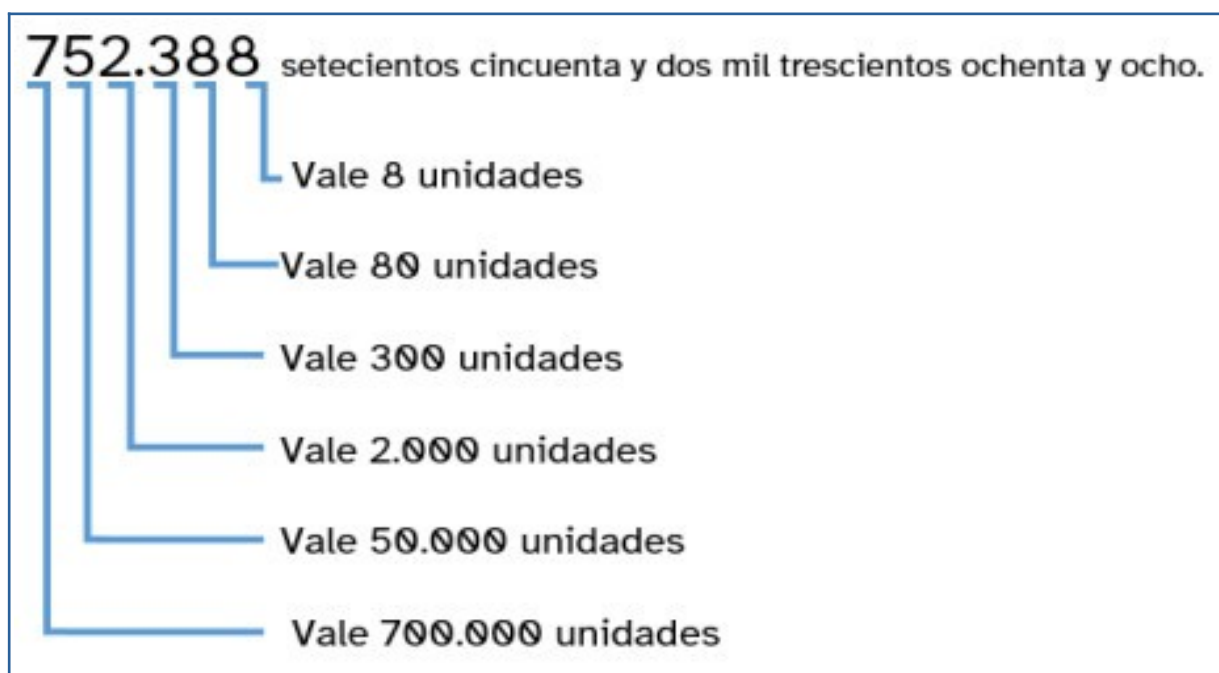
CDU Fijate en el valor de cada cifra.

U

Cada cifra se indica en unidades.



Mirá como se descompone el número:





UNIÓN EUROPEA
Fondos Europeo de Desarrollo Regional



**Junta
de Andalucía**

Consejería de Educación
y Deporte