



ORGANIZACIÓN

Cartel para la clase (imprimir en grande)




Material

-Dentro de la caja . Imprimir tamaño folio y recortar en 6 trozos.

ODS 17



Ficha 1



Elemento imprescindible agenda 2030. Explicación




-Fuera de la caja
Tarjeta códigos




Tarjeta Códigos



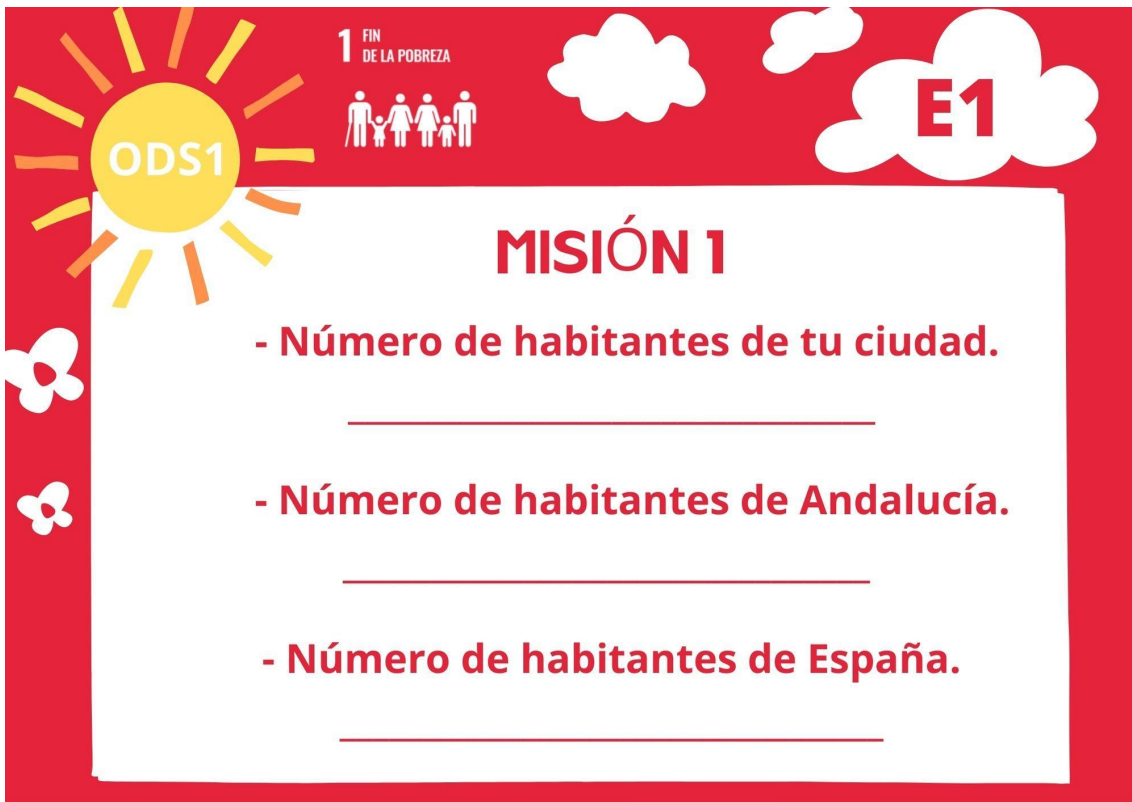
- Código 1
- Código 2
- Código 3
- Código 4
- Código 5



EQUIPO N°



Misiones

A red-bordered graphic for Mission 1. It features a yellow sun with 'ODS1' in the center, a family icon with '1 FIN DE LA POBREZA' above it, and a cloud with 'E1' inside. The background is red with white clouds and flowers on the left side.

ODS1

1 FIN DE LA POBREZA

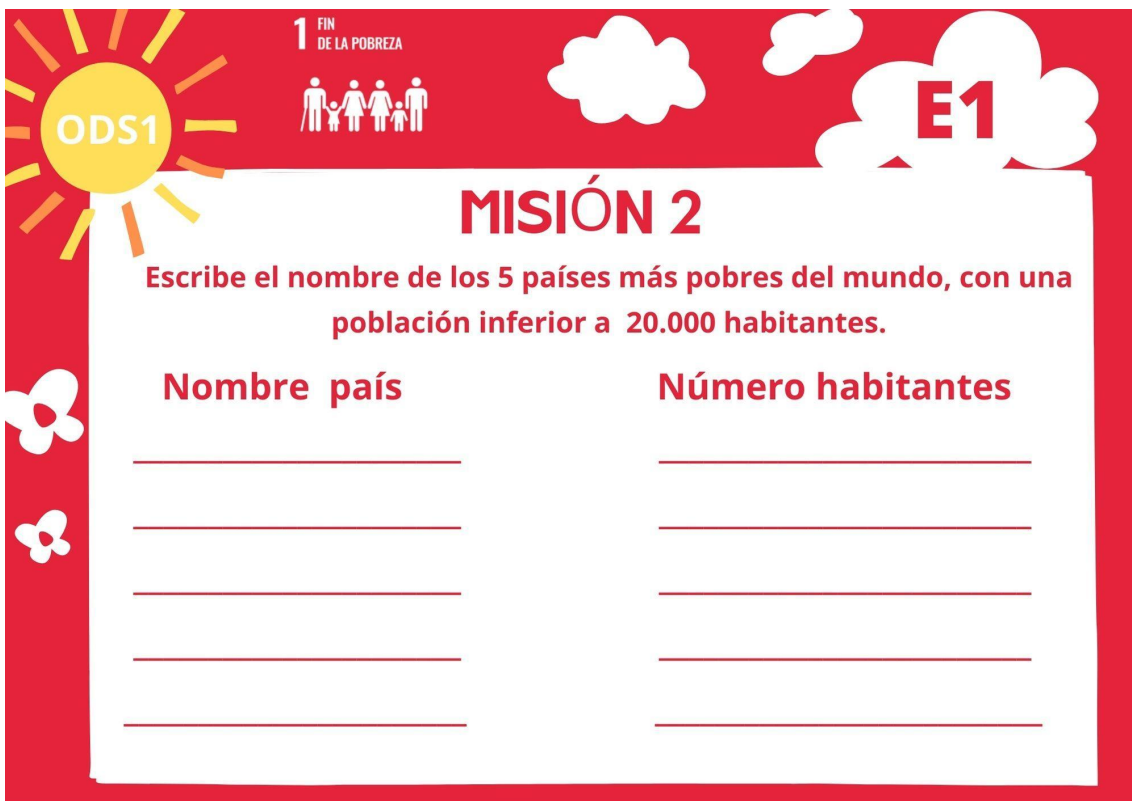
E1

MISIÓN 1

- Número de habitantes de tu ciudad.

- Número de habitantes de Andalucía.

- Número de habitantes de España.

A red-bordered graphic for Mission 2. It features a yellow sun with 'ODS1' in the center, a family icon with '1 FIN DE LA POBREZA' above it, and a cloud with 'E1' inside. The background is red with white clouds and flowers on the left side.

ODS1




1 FIN DE LA POBREZA

E1

MISIÓN 2

Escribe el nombre de los 5 países más pobres del mundo, con una población inferior a 20.000 habitantes.

Nombre país	Número habitantes
_____	_____
_____	_____
_____	_____
_____	_____
_____	_____








MISIÓN 3

Redondea a las UMM el número de habitantes de Andalucía .
 Redondea a las UMM el número de habitantes de los países de la Misión 2 .
 Compara los datos de habitantes de esos países con Andalucía .
 (mayor, menor, doble, triple, 4 veces....)

Andalucía _____

País	Habitantes (redondeo)	Comparación
_____	_____	_____
_____	_____	_____
_____	_____	_____
_____	_____	_____
_____	_____	_____
_____	_____	_____

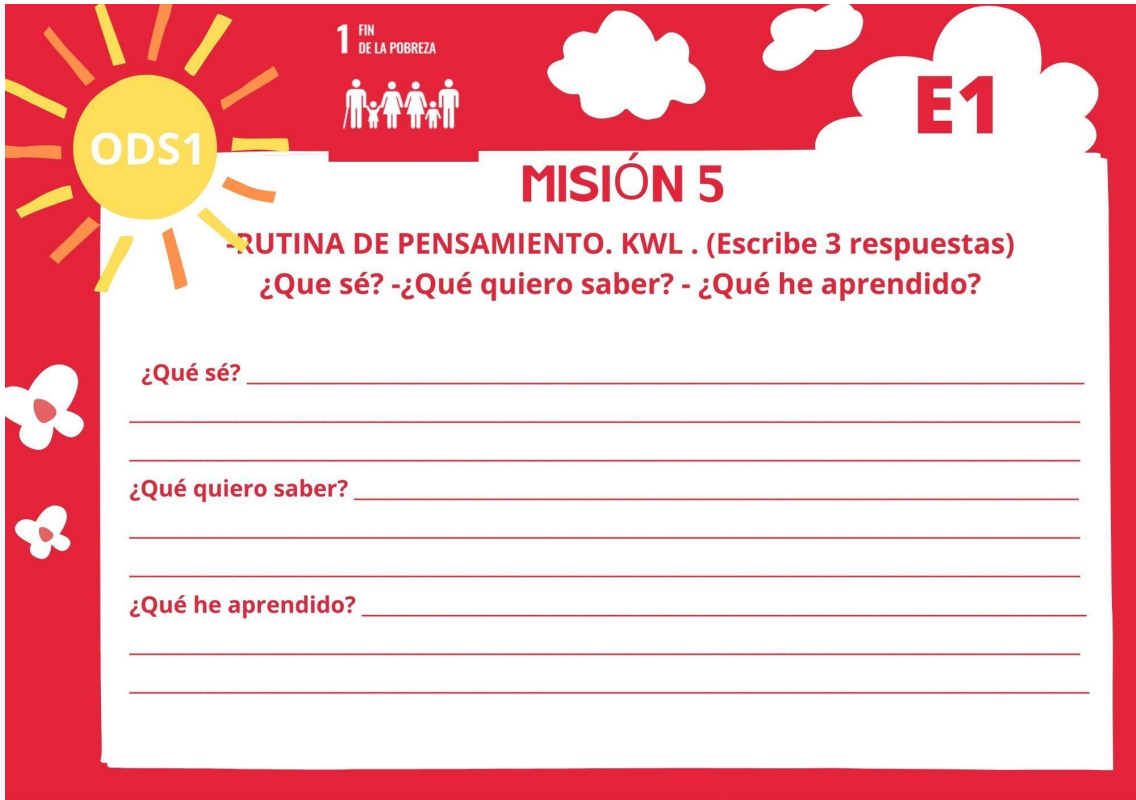




MISIÓN 4

-Busca el índice de pobreza (en tanto por ciento %)
 de la población que está en riesgo de pobreza en tu ciudad, en
 Andalucía y en España.

TU CIUDAD	ANDALUCÍA	ESPAÑA
_____ %	_____ %	_____ %

-Escribid los datos que se os piden en el panel de
 datos de la clase



This worksheet is titled 'MISIÓN 5' and is part of a series for 'ODS1' (Goal 1: No Poverty). It features a red background with a sun icon on the left containing 'ODS1', a family icon with '1 FIN DE LA POBREZA' above it, and a cloud icon with 'E1' inside. The main text asks for a 'RUTINA DE PENSAMIENTO. KWL' (Thinking Routine: Know-Want to Know-Learned) with three questions: '¿Que sé?', '¿Qué quiero saber?', and '¿Qué he aprendido?'. Each question is followed by three horizontal lines for writing.

ODS1

1 FIN DE LA POBREZA

E1

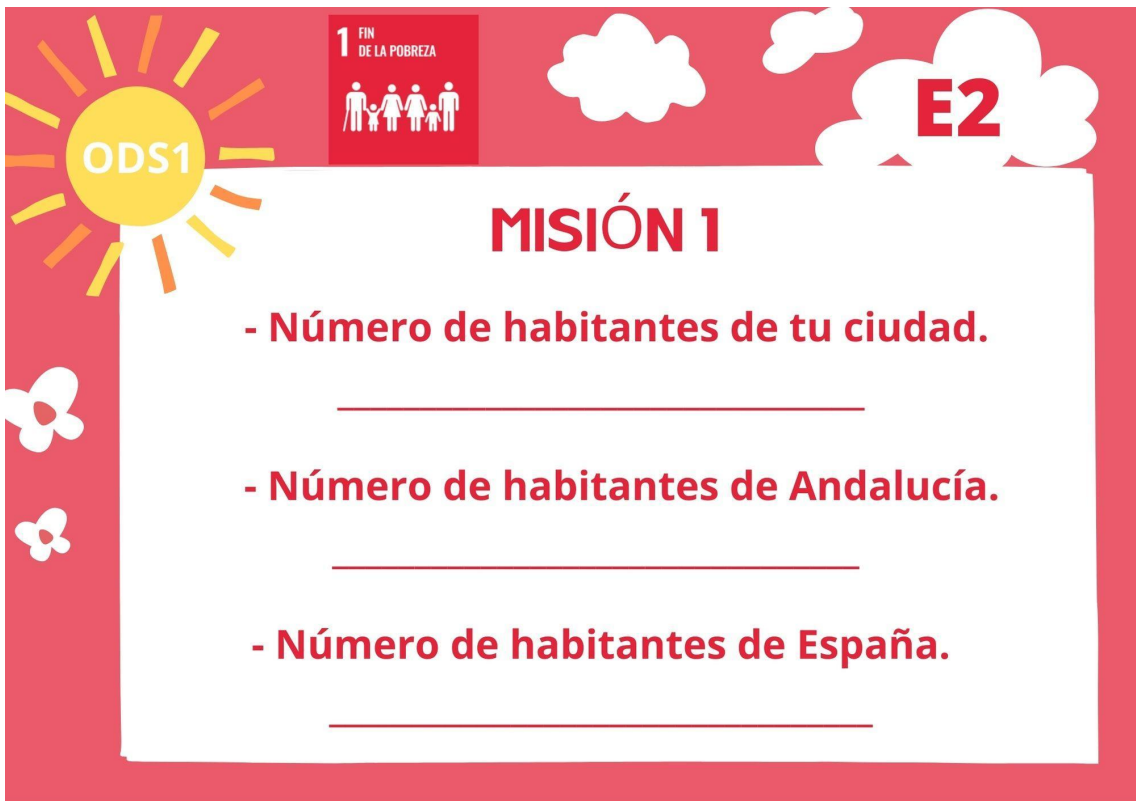
MISIÓN 5

-RUTINA DE PENSAMIENTO. KWL . (Escribe 3 respuestas)
¿Que sé? -¿Qué quiero saber? - ¿Qué he aprendido?

¿Qué sé? _____

¿Qué quiero saber? _____

¿Qué he aprendido? _____



This worksheet is titled 'MISIÓN 1' and is part of a series for 'ODS1' (Goal 1: No Poverty). It features a red background with a sun icon on the left containing 'ODS1', a family icon with '1 FIN DE LA POBREZA' above it, and a cloud icon with 'E2' inside. The main text asks for the number of inhabitants in three different locations: 'tu ciudad', 'Andalucía', and 'España'. Each question is followed by a horizontal line for writing.

ODS1

1 FIN DE LA POBREZA




E2

MISIÓN 1

- Número de habitantes de tu ciudad.

- Número de habitantes de Andalucía.




- Número de habitantes de España.

MISIÓN 2

Escribe el nombre de los 5 países más ricos del mundo ,con una población inferior a 20.000 habitantes.

Nombre país	Número habitantes
_____	_____
_____	_____
_____	_____
_____	_____
_____	_____

MISIÓN 3

**Redondea a las UMM el número de habitantes de Andalucía .
Redondea a las UMM el número de habitantes de los países de la Misión 2 .
Compara los datos de habitantes de esos países con Andalucía .
(mayor, menor, doble, triple, 4 veces....)**

Andalucía		
País	Habitantes (redondeo)	Comparación
_____	_____	_____
_____	_____	_____
_____	_____	_____
_____	_____	_____
_____	_____	_____

ODS1

1 FIN DE LA POBREZA

E2

MISIÓN 4

-Busca el índice de pobreza (en tanto por ciento %) de la población que está en riesgo de pobreza en los 3 países más pobres del mundo.

NOMBRE _____

_____ % _____ % _____ %

-Escribid los datos que se os piden en el panel de datos de la clase

ODS1

1 FIN DE LA POBREZA

E2

MISIÓN 5

-RUTINA DE PENSAMIENTO. KWL . (Escribe 3 respuestas)
¿Que sé? -¿Qué quiero saber? - ¿Qué he aprendido?

¿Qué sé? _____

¿Qué quiero saber? _____

¿Qué he aprendido? _____

ODS2

2 HAMBRE CERO

E3

MISIÓN 1

- Número de habitantes de tu ciudad.

- Número de habitantes de Andalucía.

- Número de habitantes de España.

ODS2

2 HAMBRE CERO

E3

MISIÓN 2

Escribe el nombre de los 5 países del mundo que más hambre padecen, con una población inferior a 20.000 habitantes.

Nombre país	Número habitantes
<hr/>	<hr/>
<hr/>	<hr/>
<hr/>	<hr/>
<hr/>	<hr/>
<hr/>	<hr/>

ODS2 **2 HAMBRE CERO** **E3**

MISIÓN 3

Redondea a las UMM el número de habitantes de Andalucía .
 Redondea a las UMM el número de habitantes de los países de la Misión 2 .
 Compara los datos de habitantes de esos países con Andalucía .
 (mayor, menor, doble, triple, 4 veces....)

Andalucía _____

País	Habitantes (redondeo)	Comparación
_____	_____	_____
_____	_____	_____
_____	_____	_____
_____	_____	_____
_____	_____	_____

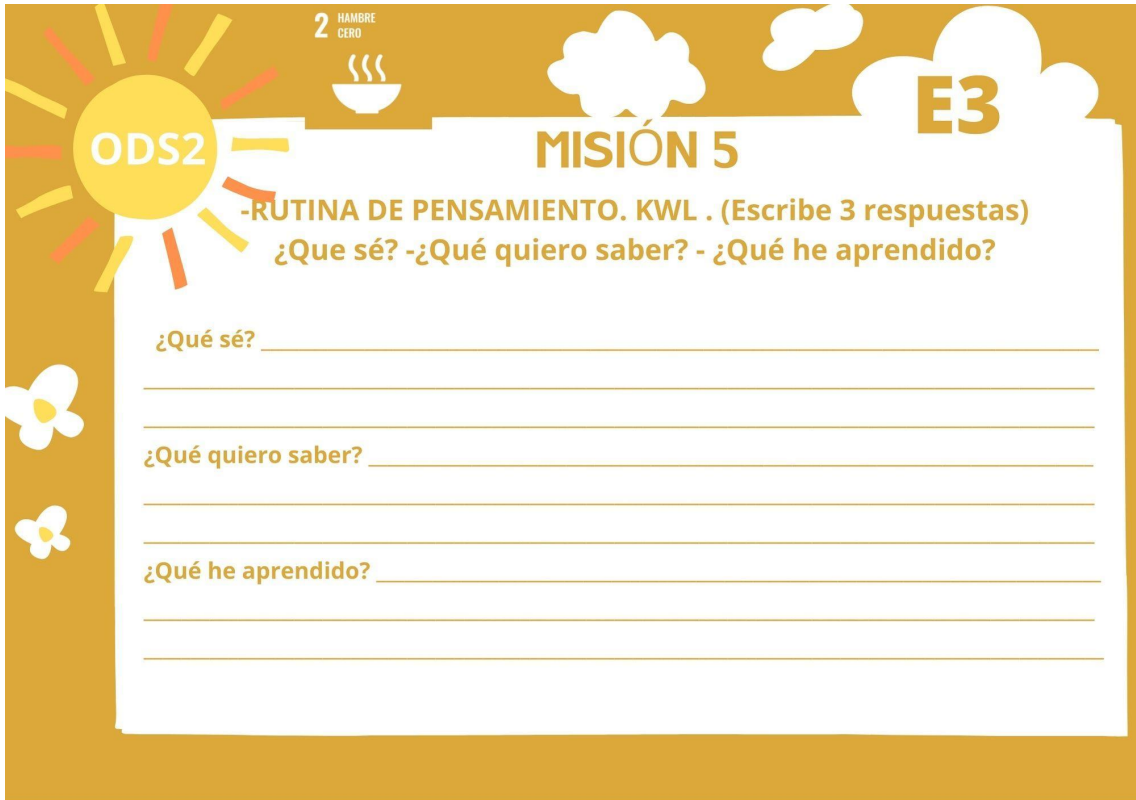
ODS2 **2 HAMBRE CERO** **E3**

MISIÓN 4

-Busca el porcentaje de personas que padecen hambre en tu ciudad, Andalucía y España.

TU CIUDAD	ANDALUCÍA	ESPAÑA
_____ %	_____ %	_____ %

-Escribid los datos que se os piden en el panel de datos de la clase



This worksheet is titled 'MISIÓN 5' and is associated with 'ODS2' (Hambre Cero) and 'E3'. It features a sun icon with 'ODS2' inside, a bowl of steam with '2 HAMBRE CERO', and a cloud with 'E3'. The main instruction is '-RUTINA DE PENSAMIENTO. KWL . (Escribe 3 respuestas) ¿Que sé? -¿Qué quiero saber? - ¿Qué he aprendido?'. Below this are three sets of horizontal lines for writing answers.

ODS2 **2 HAMBRE CERO** **E3**

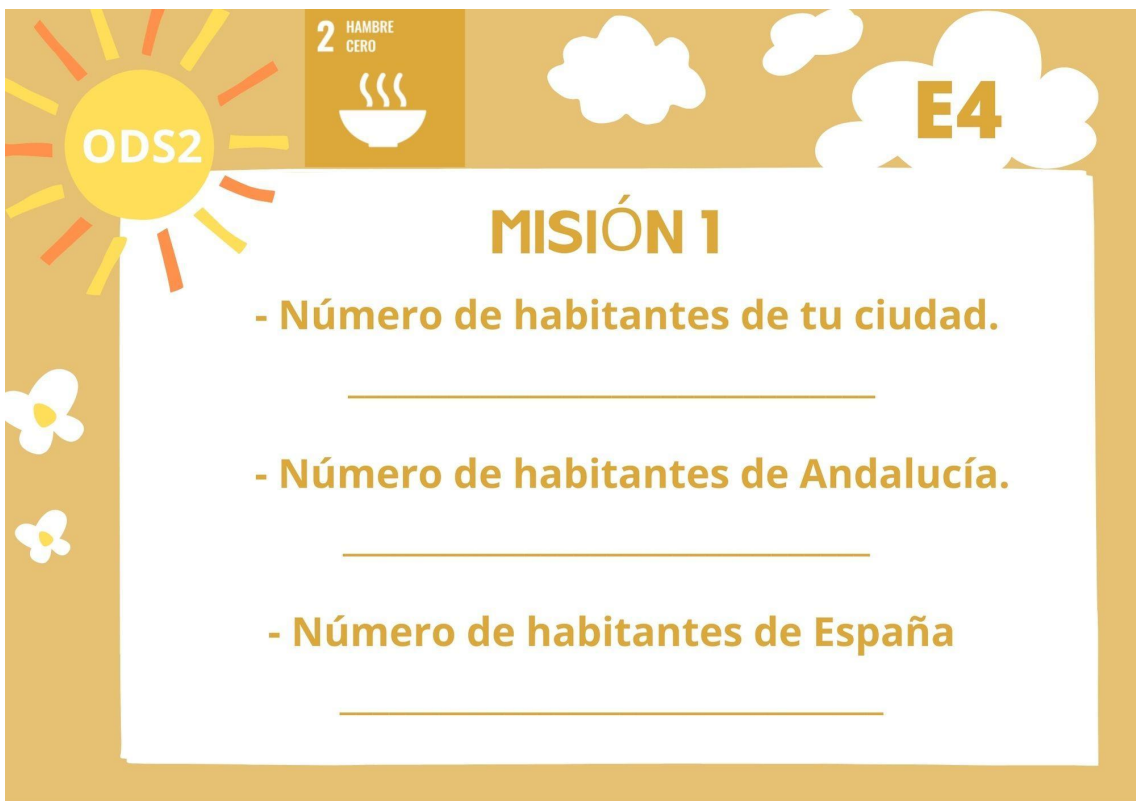
MISIÓN 5

-RUTINA DE PENSAMIENTO. KWL . (Escribe 3 respuestas)
¿Que sé? -¿Qué quiero saber? - ¿Qué he aprendido?

¿Qué sé? _____

¿Qué quiero saber? _____

¿Qué he aprendido? _____



This worksheet is titled 'MISIÓN 1' and is associated with 'ODS2' (Hambre Cero) and 'E4'. It features a sun icon with 'ODS2' inside, a bowl of steam with '2 HAMBRE CERO', and a cloud with 'E4'. The main instruction is '- Número de habitantes de tu ciudad.' followed by a horizontal line. Below this are two more instructions: '- Número de habitantes de Andalucía.' and '- Número de habitantes de España', each followed by a horizontal line.




ODS2 **2 HAMBRE CERO** **E4**

MISIÓN 1

- Número de habitantes de tu ciudad.

- Número de habitantes de Andalucía.

- Número de habitantes de España

MISIÓN 2

Escribe el nombre de los 5 países del mundo que más alimentos derrochan , con una población inferior a 20.000 habitantes.

Nombre país	Número habitantes
<hr/>	<hr/>
<hr/>	<hr/>
<hr/>	<hr/>
<hr/>	<hr/>
<hr/>	<hr/>





MISIÓN 3

Redondea a las UMM el número de habitantes de Andalucía.
 Redondea a las UMM el número de habitantes de los países de la Misión 2.
 Compara los datos de habitantes de esos países con Andalucía .
 (mayor, menor, doble, triple, 4 veces...)

Andalucía		
País	Habitantes (redondeo)	Comparación
<hr/>	<hr/>	<hr/>
<hr/>	<hr/>	<hr/>
<hr/>	<hr/>	<hr/>
<hr/>	<hr/>	<hr/>
<hr/>	<hr/>	<hr/>

ODS2

2 HAMBRE CERO

E4

MISIÓN 4

-Busca el porcentaje de personas que padecen hambre en los 3 países con más hambre del mundo.

NOMBRE _____

_____ % _____ % _____ %

-Escribid los datos que se os piden en el panel de datos de la clase

ODS2

2 HAMBRE CERO

E4

MISIÓN 5

-RUTINA DE PENSAMIENTO. KWL . (Escribe 3 respuestas)
¿Que sé? -¿Qué quiero saber? - ¿Qué he aprendido?

¿Qué sé? _____

¿Qué quiero saber? _____

¿Qué he aprendido? _____



MISIÓN 1

- Número de habitantes de tu ciudad.

- Número de habitantes de Andalucía.

- Número de habitantes de España.






MISIÓN 2

Escribe el nombre de los 5 países del mundo que tengan más niños/as sin escolarizar , con una población inferior a 20.000 habitantes.

Nombre país

Número habitantes

ODS4

4 EDUCACIÓN DE CALIDAD




E5

MISIÓN 3

Redondea a las UMM el número de habitantes de Andalucía .
 Redondea a las UMM el número de habitantes de los países de la Misión 2 .
 Compara los datos de habitantes de esos países con Andalucía .
 (mayor, menor, doble, triple, 4 veces....)

Andalucía _____

País	Habitantes (redondeo)	Comparación
_____	_____	_____
_____	_____	_____
_____	_____	_____
_____	_____	_____
_____	_____	_____
_____	_____	_____

ODS4

4 EDUCACIÓN DE CALIDAD

E5


MISIÓN 4


-Busca el porcentaje de personas que no reciben educación en los países con tienen poca alfabetización.

NOMBRE

_____ % _____ % _____ %

-Escribid los datos que se os piden en el panel de datos de la clase.

 **ODS4**

4 EDUCACIÓN DE CALIDAD


E5

MISIÓN 5

-RUTINA DE PENSAMIENTO. KWL . (Escribe 3 respuestas)
¿Que sé? -¿Qué quiero saber? - ¿Qué he aprendido?

¿Qué sé? _____

¿Qué quiero saber? _____

¿Qué he aprendido? _____

 **ODS6**

6 AGUA LIMPIA Y SANEAMIENTO





E6

MISIÓN 1

- Número de habitantes de tu ciudad.

- Número de habitantes de Andalucía.




- Número de habitantes de España.

MISIÓN 2

Escribe el nombre de los 5 países del mundo que tengan menos agua potable (agua limpia para beber), con una población inferior a 20.000 habitantes.

Nombre país	Número habitantes
_____	_____
_____	_____
_____	_____
_____	_____
_____	_____

MISIÓN 3

Redondea a las UMM el número de habitantes de Andalucía.
 Redondea a las UMM el número de habitantes de los países de la Misión 2.
 Compara los datos de habitantes de esos países con Andalucía .
 (mayor, menor, doble, triple, 4 veces....)

País	Habitantes (redondeo)	Comparación
Andalucía	_____	
_____	_____	_____
_____	_____	_____
_____	_____	_____
_____	_____	_____
_____	_____	_____



6 AGUA LIMPIA Y SANEAMIENTO



E6

MISIÓN 4

-Busca el porcentaje de personas que no tienen acceso a agua potable en países con más escasez de agua potable.

NOMBRE

_____ %

_____ %

_____ %

-Escribid los datos que se os piden en el panel de datos de la clase.



6 AGUA LIMPIA Y SANEAMIENTO



E6

MISIÓN 5

-RUTINA DE PENSAMIENTO. KWL . (Escribe 3 respuestas)
¿Que sé? -¿Qué quiero saber? - ¿Qué he aprendido?

¿Qué sé? _____

¿Qué quiero saber? _____

¿Qué he aprendido? _____

PANEL RETO 4 (Imprimir cartel grande)

CIUDAD/COMUNIDAD PAÍS	Nº HABITANTES	%	
			ÍNDICE DE POBREZA
			ÍNDICE DE POBREZA
			ÍNDICE DE POBREZA
			ÍNDICE DE POBREZA
			ÍNDICE DE POBREZA
			ÍNDICE DE POBREZA
			PERSONAS QUE PADECEN HAMBRE
			PERSONAS QUE PADECEN HAMBRE
			PERSONAS QUE PADECEN HAMBRE
			PERSONAS QUE PADECEN HAMBRE
			PERSONAS QUE PADECEN HAMBRE
			PERSONAS QUE PADECEN HAMBRE
			PERSONAS QUE NO RECIBEN EDUCACIÓN
			PERSONAS QUE NO RECIBEN EDUCACIÓN
			PERSONAS QUE NO RECIBEN EDUCACIÓN
			PERSONAS QUE NO TIENEN AGUA POTABLE
			PERSONAS QUE NO TIENEN AGUA POTABLE
			PERSONAS QUE NO TIENEN AGUA POTABLE

TARJETAS DE RECOMPENSA





20 min. de
juegos en
clase



Juegos con
ordenador
20 min



No contestar
1 pregunta
examen



Oír/ver una
canción



CÓDIGOS DE LOS CANDADOS

	R_{ETO} 1	R_{ETO} 2	R_{ETO} 3	R_{ETO} 4	R_{ETO} 5
EQUIPO 1	4	1	2	3	4
EQUIPO 2	4	2	3	4	5
EQUIPO 3	4	3	4	5	1
EQUIPO 4	4	4	5	1	2
EQUIPO 5	4	5	1	2	3
EQUIPO 6	4	1	2	3	4